

# 习题解答

## 第一章 向量代数

### 习题 1-1

1. 如图, 已知平行六面体  $ABCD-A_1B_1C_1D_1$ ,  $E$ 、 $F$  分别是棱  $BC$ 、 $C_1D_1$  的中点. 设  $\overrightarrow{AB} = \vec{a}$ ,  $\overrightarrow{AD} = \vec{b}$ ,  $\overrightarrow{AA_1} = \vec{c}$ . 试用  $\vec{a}$ ,  $\vec{b}$ ,  $\vec{c}$  表示下列向量:

- (1)  $\overrightarrow{AC_1}$ ; (2)  $\overrightarrow{BD_1}$ ; (3)  $\overrightarrow{AF}$ ; (4)  $\overrightarrow{EF}$ .

解: (1) 因为

$$\overrightarrow{BC} = \overrightarrow{AD}, \quad \overrightarrow{CC_1} = \overrightarrow{AA_1}, \quad \overrightarrow{AC_1} = \overrightarrow{AB} + \overrightarrow{BC} + \overrightarrow{CC_1},$$

所以

$$\overrightarrow{AC_1} = \vec{a} + \vec{b} + \vec{c}.$$

(2) 因为  $\overrightarrow{BD_1} = \overrightarrow{BD} + \overrightarrow{DD_1}$ , 而

$$\overrightarrow{BD} = \overrightarrow{AD} - \overrightarrow{AB} = \vec{b} - \vec{a}, \quad \overrightarrow{DD_1} = \overrightarrow{AA_1}.$$

所以

$$\overrightarrow{BD_1} = \vec{b} - \vec{a} + \vec{c}.$$

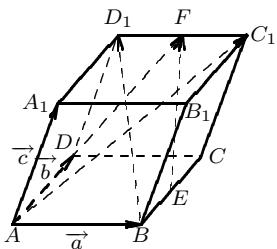
(3)  $\overrightarrow{AF} = \overrightarrow{AD} + \overrightarrow{DD_1} + \overrightarrow{D_1F}$ , 而

$$\overrightarrow{DD_1} = \overrightarrow{AA_1}, \quad \overrightarrow{D_1F} = \frac{1}{2}\overrightarrow{D_1C_1} = \frac{1}{2}\overrightarrow{AB},$$

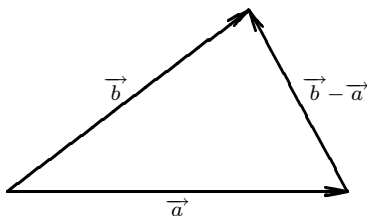
所以

$$\overrightarrow{AF} = \frac{1}{2}\vec{a} + \vec{b} + \vec{c}.$$

(4)  $\overrightarrow{EF} = \overrightarrow{AF} - \overrightarrow{AE} = \overrightarrow{AF} - (\overrightarrow{AB} + \overrightarrow{BE}) = \overrightarrow{AF} - (\overrightarrow{AB} + \overrightarrow{BE}) = \overrightarrow{AF} - (\overrightarrow{AB} + \frac{1}{2}\overrightarrow{BC}) = \frac{1}{2}\vec{a} + \vec{b} + \vec{c} - \vec{a} - \frac{1}{2}\vec{b} = -\frac{1}{2}\vec{a} + \frac{1}{2}\vec{b} + \vec{c}.$



第1题图



第3(1)题图

2. 要使下列各式成立, 向量  $\vec{a}$ ,  $\vec{b}$  应满足什么条件?

- (1)  $|\vec{a} + \vec{b}| = |\vec{a}| + |\vec{b}|$ ;  
 (2)  $|\vec{a} + \vec{b}| = |\vec{a}| - |\vec{b}|$ ;  
 (3)  $|\vec{a} - \vec{b}| = |\vec{a}| - |\vec{b}|$ ;  
 (4)  $|\vec{a} - \vec{b}| = |\vec{a}| + |\vec{b}|$ .

解: (1) 利用“三角形两边之和大于第三边”可知:  $\vec{a} \parallel \vec{b}$ . 且要使  $|\vec{a} + \vec{b}| = |\vec{a}| + |\vec{b}|$  必须:  $\vec{a}$  与  $\vec{b}$  同向, 或  $\vec{a}$ ,  $\vec{b}$  中至少有一为0.

(2) 令  $\vec{c} = \vec{a} + \vec{b}$ , 则  $\vec{a} = \vec{c} - \vec{b}$ , 原式化为:  $|\vec{c} - \vec{b}| = |\vec{c}| + |\vec{b}|$ . 所以  $\vec{b} \parallel \vec{c}$  且反向. 由此可得:  $\vec{a} \parallel \vec{b}$ , 反向, 且  $|\vec{a}| \geq |\vec{b}|$ , 或  $\vec{b} = 0$ .

(3) 令  $\vec{c} = \vec{a} - \vec{b}$ , 则  $\vec{a} = \vec{b} + \vec{c}$ , 原式化为:  $|\vec{b}| + |\vec{c}| = |\vec{b} + \vec{c}|$ . 由(1)知:  $\vec{b} \parallel \vec{c}$  且同向. 所以  $\vec{a} \parallel \vec{b}$  且同向. 又因  $|\vec{a} - \vec{b}| \geq 0$ , 所以  $|\vec{a}| \geq |\vec{b}|$ , 或  $\vec{b} = 0$ .

(4) 令  $\vec{c} = \vec{a} - \vec{b}$ , 则  $\vec{a} = \vec{b} + \vec{c}$ , 原式化为:  $|\vec{b} + \vec{c}| = |\vec{c}| - |\vec{b}|$ . 由(2)知:  $\vec{c} \parallel \vec{b}$  且反向, 或  $\vec{b} = 0$ , 同时,  $|\vec{c}| \geq |\vec{b}|$ . 所以  $\vec{a} \parallel \vec{b}$  且反向, 或  $\vec{b} = 0$  或  $\vec{a} = 0$ .

3. 证明下列不等式, 并说明等号什么时候成立.

(1)  $|\vec{b} - \vec{a}| \geq |\vec{a}| - |\vec{b}|$ ;

(2)  $|\vec{a} + \vec{b} + \vec{c}| \leq |\vec{a}| + |\vec{b}| + |\vec{c}|$ .

证明: (1) 如图, 利用“三角形两边之差小于第三边”可得欲证的不等式. 等式成立的条件可参见习题2(3):  $\vec{a} \parallel \vec{b}$ , 同向, 且  $|\vec{a}| \geq |\vec{b}|$ , 或  $\vec{b} = 0$ .

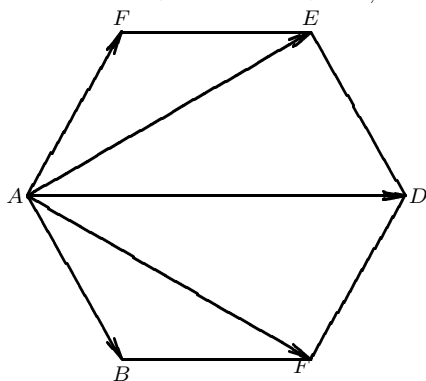
(2) 令  $\vec{d} = \vec{b} + \vec{c}$ . 则:  $|\vec{a} + \vec{b} + \vec{c}| = |\vec{a} + \vec{d}| \leq |\vec{a}| + |\vec{d}| = |\vec{a}| + |\vec{b} + \vec{c}| \leq |\vec{a}| + |\vec{b}| + |\vec{c}|$ . 等号成立当且仅当 (i)  $\vec{a}, \vec{b}, \vec{c}$  互相平行且同向, 或 (ii)  $\vec{a}, \vec{b}, \vec{c}$  中至少两个为0 (也可看成(i)的特例).

4. 在四边形  $ABCD$  中,  $\vec{AB} = \vec{a} + 2\vec{b}$ ,  $\vec{BC} = -4\vec{a} - \vec{b}$ ,  $\vec{CD} = -5\vec{a} - 3\vec{b}$  ( $\vec{a}, \vec{b}$  都是非零向量). 证明  $ABCD$  为梯形.

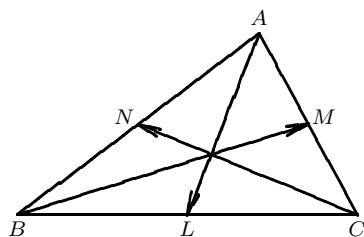
证明:  $\because \vec{AD} = \vec{AB} + \vec{BC} + \vec{CD} = -8\vec{a} - 2\vec{b} = 2\vec{BC}$ ,  $\therefore \vec{AD} \parallel \vec{BC}$ . 但  $|\vec{AD}| = 2|\vec{BC}|$ , 所以  $ABCD$  是梯形.

5. 设  $ABCDEF$  为正六边形, 求  $\vec{AB} + \vec{AC} + \vec{AD} + \vec{AE} + \vec{AF}$ .

解:  $\because \vec{AD} = \vec{AC} + \vec{AF} = \vec{AE} + \vec{AB}$ ,  $\therefore \vec{AB} + \vec{AC} + \vec{AD} + \vec{AE} + \vec{AF} = 3\vec{AD}$ .



第5题图



第6题图

6. 设  $L, M, N$  分别是三角形  $ABC$  的三边  $BC, CA, AB$  的中点. 证明三中线向量  $\vec{AL}, \vec{BM}, \vec{CN}$  可以构成一个三角形.

证明: 因为  $\vec{AL}, \vec{BM}, \vec{CN}$  可以构成一个三角形, 当且仅当将这三个向量之和为零向量. 由

$$\vec{AL} = \frac{1}{2}(\vec{AB} + \vec{AC}), \quad \vec{BM} = \frac{1}{2}(\vec{BA} + \vec{BC}), \quad \vec{CN} = \frac{1}{2}(\vec{CA} + \vec{CB}),$$

可得:  $\vec{AL} + \vec{BM} + \vec{CN} = 0$ .

7. 在三角形  $ABC$  中求一点  $O$ , 使

$$\vec{OA} + \vec{OB} + \vec{OC} = 0.$$

解: 设  $L$  是  $BC$  的中点, 则  $\overrightarrow{AL} = \frac{1}{2}(\overrightarrow{AB} + \overrightarrow{AC})$ . 在线段  $AL$  上取  $O$  点, 使  $\overrightarrow{AO} = \frac{2}{3}\overrightarrow{AL} = \frac{1}{3}(\overrightarrow{AB} + \overrightarrow{AC})$ , 则  $O$  点在  $\triangle ABC$  的内部. 验证:

$$\begin{aligned}\overrightarrow{OA} + \overrightarrow{OB} + \overrightarrow{OC} &= \overrightarrow{OA} + (\overrightarrow{OA} + \overrightarrow{AB}) + (\overrightarrow{OA} + \overrightarrow{AC}) = 3\overrightarrow{OA} + \overrightarrow{AB} + \overrightarrow{AC} \\ &= -(\overrightarrow{AB} + \overrightarrow{AC}) + \overrightarrow{AB} + \overrightarrow{AC} = 0.\end{aligned}$$

8. 设  $A, B, C, D$  是一个四面体的四个顶点,  $M, N$  分别是边  $AB, CD$  的中点. 证明:

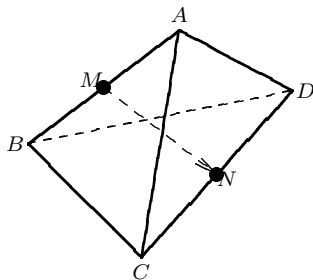
$$\overrightarrow{MN} = \frac{1}{2}(\overrightarrow{AD} + \overrightarrow{BC}).$$

证明: 如图,

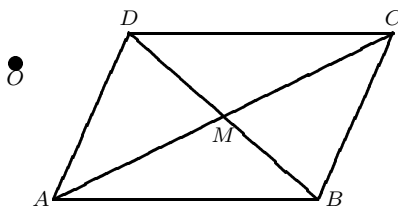
$$\overrightarrow{CM} = \frac{1}{2}(\overrightarrow{CA} + \overrightarrow{CB}), \quad \overrightarrow{CN} = \frac{1}{2}\overrightarrow{CD},$$

所以

$$\overrightarrow{MN} = \overrightarrow{CN} - \overrightarrow{CM} = \frac{1}{2}\overrightarrow{CD} - \frac{1}{2}(\overrightarrow{CA} + \overrightarrow{CB}) = \frac{1}{2}(\overrightarrow{AD} + \overrightarrow{BC}).$$



第8题图



第9题图

9. 设  $M$  是平行四边形  $ABCD$  的中心,  $O$  是任意一点. 证明:

$$\overrightarrow{OA} + \overrightarrow{OB} + \overrightarrow{OC} + \overrightarrow{OD} = 4\overrightarrow{OM}.$$

证明: 如图, 因为

$$\overrightarrow{OM} = \frac{1}{2}(\overrightarrow{OA} + \overrightarrow{OC}), \quad \overrightarrow{OM} = \frac{1}{2}(\overrightarrow{OB} + \overrightarrow{OD}),$$

所以

$$\overrightarrow{OA} + \overrightarrow{OB} + \overrightarrow{OC} + \overrightarrow{OD} = 4\overrightarrow{OM}.$$

10. 设  $ABCD$  是平行四边形,  $P, Q$  分别是边  $BC, CD$  的中点. 证明  $AP, AQ$  与对角线  $BD$  相交于  $E, F$ , 而将  $BD$  三等分.

证明: 设  $\overrightarrow{AB} = \vec{a}, \overrightarrow{AD} = \vec{b}$ , 则

$$\overrightarrow{BD} = \overrightarrow{AD} - \overrightarrow{AB} = \vec{b} - \vec{a},$$

$$\overrightarrow{AP} = \overrightarrow{AB} + \frac{1}{2}\overrightarrow{BC} = \vec{a} + \frac{1}{2}\vec{b},$$

$$\overrightarrow{AQ} = \overrightarrow{AD} + \frac{1}{2}\overrightarrow{DC} = \vec{b} + \frac{1}{2}\vec{a}.$$

又设

$$\overrightarrow{AE} = k\overrightarrow{AP} \quad (k > 0), \quad \overrightarrow{AF} = m\overrightarrow{AQ} \quad (m > 0),$$

则

$$\overrightarrow{AE} = k\vec{a} + \frac{k}{2}\vec{b}, \quad \overrightarrow{AF} = m\vec{b} + \frac{m}{2}\vec{a}.$$

但是

$$\overrightarrow{AE} = \overrightarrow{AB} + t\overrightarrow{BD} = \vec{a} + t(\vec{b} - \vec{a}) = (1-t)\vec{a} + t\vec{b} \quad (t > 0).$$

所以

$$k\vec{a} + \frac{k}{2}\vec{b} = (1-t)\vec{a} + t\vec{b},$$

即:

$$(k+t-1)\vec{a} = \left(t - \frac{k}{2}\right)\vec{b},$$

由于  $\vec{a}$  与  $\vec{b}$  不平行, 所以

$$\begin{cases} k+t-1=0 \\ t-\frac{k}{2}=0 \end{cases} \quad \text{即} \quad \begin{cases} k=\frac{2}{3} \\ t=\frac{1}{3}. \end{cases}$$

同理, 由

$$\vec{AF} = \vec{AB} + s\vec{BD} = (1-s)\vec{b} + s\vec{b} \quad (s > 0),$$

可得:

$$\begin{cases} \frac{m}{2} + s - 1 = 0 \\ s - m = 0, \end{cases} \quad \text{即:} \quad \begin{cases} m = \frac{2}{3} \\ s = \frac{2}{3}. \end{cases}$$

最后得到:

$$\vec{BF} = \frac{2}{3}\vec{BD}, \quad \vec{BE} = \frac{1}{3}\vec{BD},$$

说明  $E, F$  是线段  $BD$  的三等分点.

11.  $O$  为正多边形  $A_1A_2\cdots A_n$  的中心. 证明:

$$\vec{OA}_1 + \vec{OA}_2 + \cdots + \vec{OA}_n = 0.$$

**证明:** 先考虑  $n$  为偶数的情形. 此时, 显然有:  $\vec{OA}_1 + \cdots + \vec{OA}_n = 0$ . 再看  $n$  为奇数的情形: 我们增加一倍顶点  $B_1, \cdots, B_n$  使原来正  $n$  边形  $A_1 \cdots A_n$  成为:  $A_1B_1A_2B_2 \cdots A_{n-1}B_{n-1}A_nB_n$ , 这是一个  $2n$  边形. 所以

$$\vec{OA}_1 + \vec{OB}_1 + \vec{OA}_2 + \vec{OB}_2 + \cdots + \vec{OA}_n + \vec{OB}_n = 0.$$

注意到  $\vec{OB}_i$  是由  $\vec{OA}_i$  旋转一个定角  $\theta$  而得到 ( $0 < \theta < \pi$ ), 若记:

$$\vec{p} = \vec{OA}_1 + \cdots + \vec{OA}_n,$$

$$\vec{q} = \vec{OB}_1 + \cdots + \vec{OB}_n,$$

那么  $\vec{q}$  是由  $\vec{p}$  旋转  $\theta$  角而得到. 由于  $0 < \theta < \pi$ ,  $\vec{q}$  与  $\vec{p}$  不平行, 故  $\vec{p} + \vec{q} = 0$  当且仅当  $\vec{p} = \vec{q} = 0$ .

12.  $O$  为正多边形  $A_1A_2\cdots A_n$  的中心,  $P$  是任意一点. 证明:

$$\vec{PA}_1 + \vec{PA}_2 + \cdots + \vec{PA}_n = n\vec{PO}.$$

**证明:** 因为

$$\vec{PO} = \vec{PA}_i + \vec{A_iO} \quad (i = 1, 2, \cdots, n),$$

所以

$$n\vec{PO} = \vec{PA}_1 + \cdots + \vec{PA}_n + (\vec{A_1O} + \cdots + \vec{A_nO}) = \vec{PA}_1 + \cdots + \vec{PA}_n$$

(利用第11题的结论).

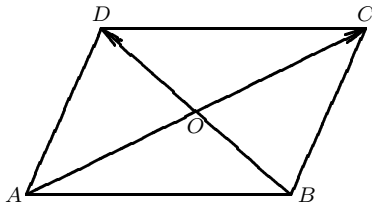
### 习题 1-2

1. 已知平行四边形  $ABCD$  的对角线为  $AC$  和  $BD$ . 设  $\vec{AC} = \vec{a}$ ,  $\vec{BD} = \vec{b}$ . 求  $\vec{AB}$ ,  $\vec{CD}$ ,  $\vec{DA}$ .

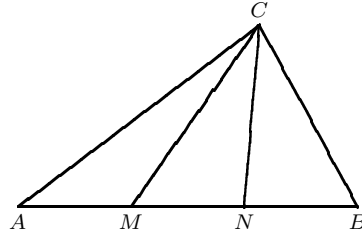
**解:** 如图,

$$\vec{AB} = \vec{AO} + \vec{OB} = \frac{1}{2}\vec{AC} + \frac{1}{2}\vec{DB} = \frac{1}{2}(\vec{a} - \vec{b}),$$

$$\begin{aligned}\overrightarrow{CD} &= -\overrightarrow{AB} = -\frac{1}{2}(\vec{a} - \vec{b}), \\ \overrightarrow{DA} &= -\overrightarrow{DB} = -(\overrightarrow{AO} + \overrightarrow{OB}) = -\frac{1}{2}(\vec{a} + \vec{b}).\end{aligned}$$



第1题图



第2题图

2. 在三角形  $ABC$  中, 点  $M, N$  是  $AB$  边上的三等分点. 设  $\overrightarrow{CA} = \vec{a}$ ,  $\overrightarrow{CB} = \vec{b}$ . 求  $\overrightarrow{CM}$ ,  $\overrightarrow{CN}$ .

解: 如图, 因为

$$\overrightarrow{AM} = \frac{1}{3}\overrightarrow{AB}, \quad \overrightarrow{AN} = \frac{2}{3}\overrightarrow{AB},$$

所以

$$\begin{aligned}\overrightarrow{CM} &= \overrightarrow{CA} + \overrightarrow{AM} = \overrightarrow{CA} + \frac{1}{3}\overrightarrow{AB} = \overrightarrow{CA} + \frac{1}{3}(\overrightarrow{CB} - \overrightarrow{CA}) = \frac{1}{3}\vec{b} + \frac{2}{3}\vec{a}, \\ \overrightarrow{CN} &= \overrightarrow{CA} + \overrightarrow{AN} = \overrightarrow{CA} + \frac{2}{3}\overrightarrow{AB} = \overrightarrow{CA} + \frac{2}{3}(\overrightarrow{CB} - \overrightarrow{CA}) = \frac{2}{3}\vec{b} + \frac{1}{3}\vec{a}.\end{aligned}$$

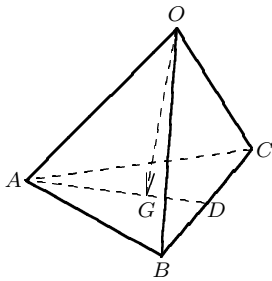
3. 在四面体  $O-ABC$  中, 设点  $G$  是三角形  $ABC$  的重心. 用  $\overrightarrow{OA}$ ,  $\overrightarrow{OB}$ ,  $\overrightarrow{OC}$  来表示向量  $\overrightarrow{OG}$ .

解: 如图, 由

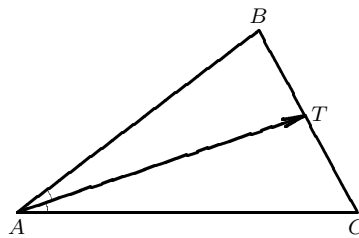
$$\begin{aligned}\overrightarrow{OG} &= \overrightarrow{OA} + \overrightarrow{AG}, \quad \overrightarrow{AG} = \frac{2}{3}\overrightarrow{AD}, \\ \overrightarrow{AD} &= \frac{1}{2}(\overrightarrow{AB} + \overrightarrow{AC}),\end{aligned}$$

可得  $\overrightarrow{AG} = \frac{1}{3}(\overrightarrow{AB} + \overrightarrow{AC})$ . 而  $\overrightarrow{AB} = \overrightarrow{OB} - \overrightarrow{OA}$ ,  $\overrightarrow{AC} = \overrightarrow{OC} - \overrightarrow{OA}$ , 所以

$$\overrightarrow{AG} = \frac{1}{3}(\overrightarrow{OB} + \overrightarrow{OC} - 2\overrightarrow{OA}), \quad \overrightarrow{OG} = \frac{1}{3}(\overrightarrow{OA} + \overrightarrow{OB} + \overrightarrow{OC}).$$



第3题图



第4题图

4. 设  $AT$  是三角形  $ABC$  中  $\angle A$  的平分线 (与  $BC$  交于  $T$  点), 将  $\overrightarrow{AT}$  用  $\overrightarrow{AB}$ ,  $\overrightarrow{AC}$  来表出.

解: 设  $\overrightarrow{BT} = k\overrightarrow{BC}$ , 则  $\overrightarrow{TC} = (1-k)\overrightarrow{BC}$ . 由角平分线的性质可知,  $|\overrightarrow{AB}| : |\overrightarrow{AC}| = k : (1-k)$ , 因此

$k = \frac{|\overrightarrow{AB}|}{|\overrightarrow{AB}| + |\overrightarrow{AC}|}$ . 于是

$$\begin{aligned}\overrightarrow{AT} &= \overrightarrow{AB} + \overrightarrow{BT} = \overrightarrow{AB} + k\overrightarrow{BC} = (1-k)\overrightarrow{AB} + k\overrightarrow{AC} \\ &= \frac{1}{|\overrightarrow{AB}| + |\overrightarrow{AC}|} (|\overrightarrow{AC}|\overrightarrow{AB} + |\overrightarrow{AB}|\overrightarrow{AC}).\end{aligned}$$

5. 已知  $\vec{a}$ ,  $\vec{b}$  不共线, 则向量  $\vec{c} = 3\vec{a} + \vec{b}$  与  $\vec{d} = 2\vec{a} - \vec{b}$  是否线性相关?

解: 设有  $k, m$  使:  $k\vec{c} + m\vec{d} = 0$ , 即

$$3k\vec{a} + k\vec{b} + 2m\vec{a} - m\vec{b} = 0,$$

整理后为

$$(3k + 2m)\vec{a} + (k - m)\vec{b} = 0.$$

由于  $\vec{a}, \vec{b}$  不共线, 故  $\vec{a}, \vec{b}$  线性无关, 所以

$$\begin{cases} 3k + 2m = 0 \\ k - m = 0 \end{cases} \quad \text{解得 } k = m = 0,$$

即  $\vec{c}, \vec{d}$  线性无关.

6. 证明三个向量  $k_1\vec{a} - k_2\vec{b}, k_2\vec{b} - k_3\vec{c}, k_3\vec{c} - k_1\vec{a}$  共面.

证明: 由等式

$$(k_1\vec{a} - k_2\vec{b}) + (k_2\vec{b} - k_3\vec{c}) + (k_3\vec{c} - k_1\vec{a}) = 0,$$

可知这 3 个向量线性相关, 所以共面.

7.  $O$  是一个定点, 证明: 对于不在一直线上的 3 个点  $A, B, C$ , 点  $M$  位于平面  $ABC$  上的充分必要条件是存在实数  $k_1, k_2, k_3$ , 使得

$$\vec{OM} = k_1\vec{OA} + k_2\vec{OB} + k_3\vec{OC}, \quad \text{且 } k_1 + k_2 + k_3 = 1.$$

证明: 已知  $A, B, C$  三点不共线, 故  $\vec{AB}, \vec{AC}$  线性无关. 任意点  $M$  位于平面  $ABC$  上当且仅当  $\vec{AM}, \vec{AB}, \vec{AC}$  共面, 即:  $\vec{AM}, \vec{AB}, \vec{AC}$  线性相关, 当且仅当存在不全为 0 的实数  $m_1, m_2, m_3$ , 使

$$m_1\vec{AM} + m_2\vec{AB} + m_3\vec{AC} = 0,$$

当且仅当对于定点  $O$  有:

$$m_1(\vec{OM} - \vec{OA}) + m_2(\vec{OB} - \vec{OA}) + m_3(\vec{OC} - \vec{OA}) = 0,$$

当且仅当

$$m_1\vec{OM} = (m_1 + m_2 + m_3)\vec{OA} - m_2\vec{OB} - m_3\vec{OC}.$$

显然  $m_1 \neq 0$ , 不然与  $\vec{AB}, \vec{AC}$  线性无关矛盾. 因此若记:

$$k_1 = \frac{1}{m_1}(m_1 + m_2 + m_3), \quad k_2 = -\frac{m_2}{m_1}, \\ k_3 = -\frac{m_3}{m_1},$$

则

$$\vec{OM} = k_1\vec{OA} + k_2\vec{OB} + k_3\vec{OC},$$

且  $k_1 + k_2 + k_3 = 1$ .

8.  $O$  是一个定点, 证明: 点  $M$  位于  $\triangle ABC$  上 (包括它的边) 的充分必要条件是存在非负实数  $k_1, k_2, k_3$ , 使得

$$\vec{OM} = k_1\vec{OA} + k_2\vec{OB} + k_3\vec{OC}, \quad \text{且 } k_1 + k_2 + k_3 = 1.$$

证明: 延长  $AM$ , 必可交  $BC$  于  $D$  点. 因此  $\vec{AM} = l\vec{AD}$ , 其中  $0 \leq l \leq 1$ . 由于  $D$  在线段  $BC$  上, 根据例 2.1, 存在实数  $m_1, m_2$ , 使得

$$\vec{OD} = m_1\vec{OB} + m_2\vec{OC}, \quad m_1 + m_2 = 1, m_1, m_2 \geq 0.$$

于是

$$\vec{OM} = \vec{OA} + \vec{AM} = (1-l)\vec{OA} + l\vec{OD} = (1-l)\vec{OA} + lm_1\vec{OB} + lm_2\vec{OC}.$$

令  $k_1 = 1 - l$ ,  $k_2 = lm_1$ ,  $k_3 = lm_2$ , 即得

$$\overrightarrow{OM} = k_1\overrightarrow{OA} + k_2\overrightarrow{OB} + k_3\overrightarrow{OC}, \quad k_1 + k_2 + k_3 = 1, \quad k_1, k_2, k_3 \geq 0.$$

反之, 不妨设  $k_1 \neq 1$ , 解方程组

$$\begin{cases} 1 - l = k_1 \\ lm_1 = k_2 \\ lm_2 = k_3 \end{cases} \quad \text{可得} \quad \begin{cases} l = 1 - k_1, \\ m_1 = \frac{k_2}{1 - k_1}, \\ m_2 = \frac{k_3}{1 - k_1}, \end{cases}$$

则有

$$m_1 + m_2 = 1, \quad m_1, m_2 \geq 0, \quad 0 < l \leq 1.$$

令

$$\overrightarrow{OD} = m_1\overrightarrow{OB} + m_2\overrightarrow{OC},$$

则  $D$  点在线段  $BC$  上. 由

$$\overrightarrow{OM} = (1 - l)\overrightarrow{OA} + l\overrightarrow{OD}$$

可以得出  $\overrightarrow{AM} = l\overrightarrow{AD}$ , 因此  $M$  在线段  $AD$  上, 从而在  $\triangle ABC$  上.

**9. 证明:** 任意不同的三点  $A, B, C$  共线的充分必要条件是存在不全为零的实数  $k_1, k_2, k_3$ , 使得

$$0 = k_1\overrightarrow{OA} + k_2\overrightarrow{OB} + k_3\overrightarrow{OC}, \quad \text{且} \quad k_1 + k_2 + k_3 = 0.$$

**证明:**  $A, B, C$  共线, 当且仅当  $l\overrightarrow{AB} + m\overrightarrow{AC} = 0$  ( $l, m$  都不为零), 当且仅当

$$l(\overrightarrow{OB} - \overrightarrow{OA}) + m(\overrightarrow{OC} - \overrightarrow{OA}) = 0,$$

当且仅当

$$-(l + m)\overrightarrow{OA} + l\overrightarrow{OB} + m\overrightarrow{OC} = 0.$$

令  $k_1 = -(l + m)$ ,  $k_2 = l$ ,  $k_3 = m$ , 显然它们不全为零, 且:

$$k_1\overrightarrow{OA} + k_2\overrightarrow{OB} + k_3\overrightarrow{OC} = 0, \quad k_1 + k_2 + k_3 = 0.$$

**10. 证明:** 任意不同的四点  $A, B, C, D$  共面的充分必要条件是存在四个不全为零的实数, 使得

$$0 = k_1\overrightarrow{OA} + k_2\overrightarrow{OB} + k_3\overrightarrow{OC} + k_4\overrightarrow{OD}, \quad \text{且} \quad k_1 + k_2 + k_3 + k_4 = 0.$$

**证明:**  $A, B, C, D$  共面当且仅当  $\overrightarrow{AB}, \overrightarrow{AC}, \overrightarrow{AD}$  线性相关, 当且仅当有不全为零的数  $l, m, n$  使:

$$l\overrightarrow{AB} + m\overrightarrow{AC} + n\overrightarrow{AD} = 0,$$

当且仅当

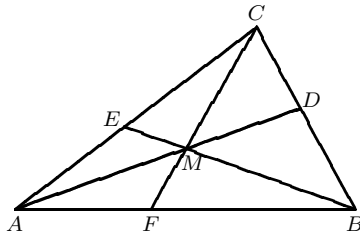
$$l(\overrightarrow{OB} - \overrightarrow{OA}) + m(\overrightarrow{OC} - \overrightarrow{OA}) + n(\overrightarrow{OD} - \overrightarrow{OA}) = 0,$$

当且仅当

$$-(l + m + n)\overrightarrow{OA} + l\overrightarrow{OB} + m\overrightarrow{OC} + n\overrightarrow{OD} = 0.$$

记  $k_1 = -(l + m + n)$ ,  $k_2 = l$ ,  $k_3 = m$ ,  $k_4 = n$ , 显然它们不全为零, 使得

$$k_1\overrightarrow{OA} + k_2\overrightarrow{OB} + k_3\overrightarrow{OC} + k_4\overrightarrow{OD} = 0, \quad k_1 + k_2 + k_3 + k_4 = 0.$$



第11题图

\*11. 用向量的方法证明契维定理: 若三角形  $ABC$  的三条边  $AB, BC, CA$  依次被分割成  $AF : FB = k_1 : k_2, BD : DC = k_3 : k_1, CE : EA = k_2 : k_3$ , 其中,  $k_1, k_2, k_3$  均为正数. 则三角形  $ABC$  的顶点与它对边的分点的连线交于一点  $M$ , 且对于任意一点  $O$  有

$$\overrightarrow{OM} = \frac{1}{k_1 + k_2 + k_3} (k_2 \overrightarrow{OA} + k_1 \overrightarrow{OB} + k_3 \overrightarrow{OC}).$$

证明: 根据分点  $D$  与  $E$  的定义可得

$$\overrightarrow{BD} = \frac{k_3}{k_1 + k_3} \overrightarrow{BC}, \quad \overrightarrow{AE} = \frac{k_3}{k_2 + k_3} \overrightarrow{AC}.$$

于是

$$\begin{aligned} \overrightarrow{AD} &= \overrightarrow{AB} + \overrightarrow{BD} = \overrightarrow{AB} + \frac{k_3}{k_1 + k_3} \overrightarrow{BC} = \overrightarrow{AB} + \frac{k_3}{k_1 + k_3} (\overrightarrow{AC} - \overrightarrow{AB}) \\ &= \frac{k_1}{k_1 + k_3} \overrightarrow{AB} + \frac{k_3}{k_1 + k_3} \overrightarrow{AC}, \\ \overrightarrow{BE} &= \overrightarrow{AE} - \overrightarrow{AB} = \frac{k_3}{k_2 + k_3} \overrightarrow{AC} - \overrightarrow{AB}. \end{aligned}$$

设  $AD$  与  $BE$  交于  $M$ , 则有

$$\overrightarrow{AM} = l \overrightarrow{AD}, \quad \overrightarrow{BM} = m \overrightarrow{BE}.$$

把前面得到的表达式代入以下等式:  $\overrightarrow{AM} = \overrightarrow{AB} + \overrightarrow{BM}$ , 得到

$$l \left( \frac{k_1}{k_1 + k_3} \overrightarrow{AB} + \frac{k_3}{k_1 + k_3} \overrightarrow{AC} \right) = \overrightarrow{AB} + m \left( \frac{k_3}{k_2 + k_3} \overrightarrow{AC} - \overrightarrow{AB} \right).$$

由于  $\overrightarrow{AB}$  与  $\overrightarrow{AC}$  线性无关, 由上述等式得到方程组:

$$\begin{cases} \frac{lk_3}{k_1 + k_3} = \frac{mk_3}{k_2 + k_3} \\ \frac{lk_1}{k_1 + k_3} = 1 - m \end{cases} \quad \text{解得} \quad \begin{cases} l = \frac{k_1 + k_3}{k_1 + k_2 + k_3} \\ m = \frac{k_2 + k_3}{k_1 + k_2 + k_3}. \end{cases}$$

即

$$\overrightarrow{AM} = \frac{k_1 + k_3}{k_1 + k_2 + k_3} \overrightarrow{AD}.$$

又设  $AD$  与  $CF$  相交于  $M'$ , 同理可得

$$\overrightarrow{AM'} = \frac{k_1 + k_3}{k_1 + k_2 + k_3} \overrightarrow{AD},$$

即  $M$  与  $M'$  重合, 因此  $AD, BE, CF$  交于同一点  $M$ .

对任意点  $O$ , 有

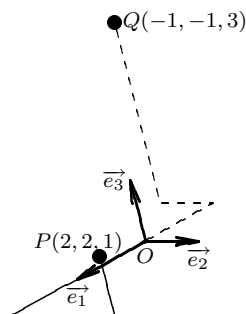
$$\begin{aligned} \overrightarrow{OM} &= \overrightarrow{OA} + \overrightarrow{AM} = \overrightarrow{OA} + \frac{k_1 + k_3}{k_1 + k_2 + k_3} \left( \frac{k_2}{k_1 + k_3} \overrightarrow{AB} + \frac{k_3}{k_1 + k_3} \overrightarrow{AC} \right) \\ &= \overrightarrow{OA} + \frac{k_1}{k_1 + k_2 + k_3} (\overrightarrow{OB} - \overrightarrow{OA}) + \frac{k_3}{k_1 + k_2 + k_3} (\overrightarrow{OC} - \overrightarrow{OA}) \\ &= \frac{1}{k_1 + k_2 + k_3} (k_2 \overrightarrow{OA} + k_1 \overrightarrow{OB} + k_3 \overrightarrow{OC}). \end{aligned}$$



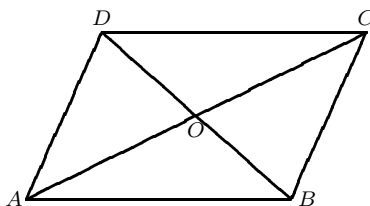
### 习题 1-3

1. 设  $P, Q$  两点在标架  $[O; \vec{e}_1, \vec{e}_2, \vec{e}_3]$  下的坐标分别是  $(2, 2, 1), (-1, -1, 3)$ . 试画出  $P, Q$  点的位置.

解: 见附图.



第1题图



第2题图

2. 对于平行四边形  $ABCD$ , 求  $A, D, \overrightarrow{AD}, \overrightarrow{DB}$  在标架  $[C; \overrightarrow{AC}, \overrightarrow{BD}]$  下的坐标.

解:  $\overrightarrow{CA} = -\overrightarrow{AC} = (-1)\overrightarrow{AC} + 0\overrightarrow{BD}$ , 点  $A$  坐标为  $(-1, 0)$ ;

$$\overrightarrow{CD} = \frac{1}{2}\overrightarrow{CA} + \frac{1}{2}\overrightarrow{BD} = -\frac{1}{2}\overrightarrow{AC} + \frac{1}{2}\overrightarrow{BD},$$

点  $D$  坐标为  $(-\frac{1}{2}, \frac{1}{2})$ ;

$$\overrightarrow{AD} = \frac{1}{2}\overrightarrow{AC} + \frac{1}{2}\overrightarrow{BD},$$

$\overrightarrow{AD}$  坐标为  $(\frac{1}{2}, \frac{1}{2})$ ;

$$\overrightarrow{DB} = -\overrightarrow{BD} = 0\overrightarrow{AC} + (-1)\overrightarrow{BD},$$

$\overrightarrow{DB}$  坐标为  $(0, -1)$ .

3. 设  $\vec{a}, \vec{b}, \vec{c}$  的坐标分别是  $(1, 5, 2), (0, -3, 4), (-2, 3, -1)$ . 求向量  $2\vec{a} + \vec{c}, -3\vec{a} + 2\vec{b} + 4\vec{c}$  的坐标.

解:  $2\vec{a} + \vec{c} = 2(1, 5, 2) + (-2, 3, -1) = (2, 10, 4) + (-2, 3, -1) = (0, 13, 3)$ .

$$\begin{aligned} -3\vec{a} + 2\vec{b} + 4\vec{c} &= -3(1, 5, 2) + 2(0, -3, 4) + 4(-2, 3, -1) \\ &= (-3, -15, -6) + (0, -6, 8) + (-8, 12, -4) = (-11, -9, -2). \end{aligned}$$

4. 证明三角形的三条中线交于一点(重心).

证明: 设  $D, E, F$  分别是边  $BC, CA, AB$  上的中点.  $AD$  与  $BE$  交于  $G$ ,  $AD$  与  $CF$  交于  $G'$ . 则

$$\overrightarrow{AG} = k\overrightarrow{AD} = k\left(\frac{1}{2}\overrightarrow{AB} + \frac{1}{2}\overrightarrow{AC}\right) = \frac{k}{2}\overrightarrow{AB} + \frac{k}{2}\overrightarrow{AC}.$$

若建立仿射标架  $[A; \overrightarrow{AB}, \overrightarrow{AC}]$ , 则点  $G$  坐标为  $(\frac{k}{2}, \frac{k}{2})$ . 又

$$\begin{aligned} \overrightarrow{BG} &= m\overrightarrow{BE} = m\left(\frac{1}{2}\overrightarrow{BA} + \frac{1}{2}\overrightarrow{BC}\right) = m\left[-\frac{1}{2}\overrightarrow{AB} + \frac{1}{2}(\overrightarrow{AC} - \overrightarrow{AB})\right] \\ &= \frac{m}{2}\overrightarrow{AC} - m\overrightarrow{AB}, \end{aligned}$$

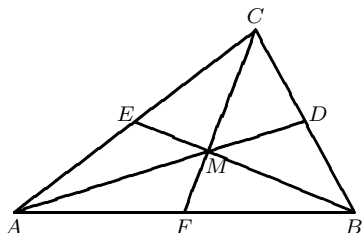
所以  $\overrightarrow{BG}$  坐标为  $(-m, \frac{m}{2})$ . 但  $\overrightarrow{AG} = \overrightarrow{AB} + \overrightarrow{BG}$ , 所以,

$$\left(\frac{k}{2}, \frac{k}{2}\right) = (1, 0) + \left(-m, \frac{m}{2}\right),$$

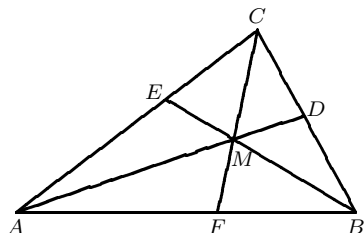
解方程组

$$\begin{cases} \frac{k}{2} = 1 - m \\ \frac{k}{2} = \frac{m}{2} \end{cases}$$

得  $k = m = \frac{2}{3}$ . 所以  $G$  的坐标为  $(\frac{1}{3}, \frac{1}{3})$ . 同理, 可以推得  $G'$  的坐标为  $(\frac{1}{3}, \frac{1}{3})$ . 证得  $G = G'$ .



第4题图



第5题图

5. 证明三角形的三条角平分线交于一点.

**证明:** 设  $\triangle ABC$  的三条角平分线分别为  $AD, BE$  和  $CF$ . 且设  $AD$  与  $BE$  交于  $T$  点. 令

$$\overrightarrow{AT} = k\overrightarrow{AD} = \frac{k}{|\overrightarrow{AB}| + |\overrightarrow{AC}|} (|\overrightarrow{AC}|\overrightarrow{AB} + |\overrightarrow{AB}|\overrightarrow{AC}).$$

建立仿射标架  $[A; \overrightarrow{AB}, \overrightarrow{AC}]$ , 且令  $\overrightarrow{AB} = \vec{a}$ ,  $\overrightarrow{AC} = \vec{b}$ . 则  $T$  点坐标  $(\frac{k|\vec{b}|}{|\vec{a}| + |\vec{b}|}, \frac{k|\vec{a}|}{|\vec{a}| + |\vec{b}|})$ . 我们还知道

$$\overrightarrow{BE} = \frac{1}{|\overrightarrow{BA}| + |\overrightarrow{BC}|} (|\overrightarrow{BC}|\overrightarrow{BA} + |\overrightarrow{BA}|\overrightarrow{BC}),$$

所以

$$\begin{aligned} \overrightarrow{BT} &= m\overrightarrow{BE} = \frac{m}{|\vec{a}| + |\vec{b} - \vec{a}|} (-|\vec{b} - \vec{a}|\vec{a} + |\vec{a}|(\vec{b} - \vec{a})) \\ &= -m\vec{a} + \frac{m|\vec{a}|}{|\vec{a}| + |\vec{b} - \vec{a}|} \vec{b}. \end{aligned}$$

由于  $\overrightarrow{AT} = \overrightarrow{AB} + \overrightarrow{BT}$ , 所以

$$\left( \frac{k|\vec{b}|}{|\vec{a}| + |\vec{b}|}, \frac{k|\vec{a}|}{|\vec{a}| + |\vec{b}|} \right) = (1, 0) + \left( -m, \frac{m|\vec{a}|}{|\vec{a}| + |\vec{b} - \vec{a}|} \right),$$

即:

$$\begin{cases} \frac{k|\vec{b}|}{|\vec{a}| + |\vec{b}|} = 1 - m \\ \frac{k|\vec{a}|}{|\vec{a}| + |\vec{b}|} = \frac{m|\vec{a}|}{|\vec{a}| + |\vec{b} - \vec{a}|} \end{cases}$$

解得:

$$k = \frac{|\vec{a}| + |\vec{b}|}{|\vec{a}| + |\vec{b}| + |\vec{b} - \vec{a}|}.$$

又设  $AD$  与  $CF$  交于  $T'$  点,

$$\overrightarrow{AT'} = s\overrightarrow{AD} = \frac{s|\vec{b}|}{|\vec{a}| + |\vec{b}|} \vec{a} + \frac{s|\vec{a}|}{|\vec{a}| + |\vec{b}|} \vec{b}.$$

得  $T'$  点的坐标为  $(\frac{s|\vec{b}|}{|\vec{a}| + |\vec{b}|}, \frac{s|\vec{a}|}{|\vec{a}| + |\vec{b}|})$ .

$$\overrightarrow{CT'} = t\overrightarrow{CF} = \frac{t}{|\overrightarrow{CA}| + |\overrightarrow{CB}|} (|\overrightarrow{CB}|\overrightarrow{CA} + |\overrightarrow{CA}|\overrightarrow{CB}) = \frac{t|\vec{b}|}{|\vec{b}| + |\vec{a} - \vec{b}|} \vec{a} - t\vec{b},$$

由  $\overrightarrow{AT'} = \overrightarrow{AC} + \overrightarrow{CT'}$ , 得:

$$\left( \frac{s|\vec{b}|}{|\vec{a}|+|\vec{b}|}, \frac{s|\vec{a}|}{|\vec{a}|+|\vec{b}|} \right) = (0, 1) + \left( \frac{t|\vec{b}|}{|\vec{b}|+|\vec{a}-\vec{b}|}, -t \right),$$

即:

$$\begin{cases} \frac{s|\vec{b}|}{|\vec{a}|+|\vec{b}|} = \frac{t|\vec{b}|}{|\vec{b}|+|\vec{a}-\vec{b}|} \\ \frac{s|\vec{a}|}{|\vec{a}|+|\vec{b}|} = 1-t \end{cases}$$

解得:

$$s = \frac{|\vec{a}|+|\vec{b}|}{|\vec{a}|+|\vec{b}|+|\vec{a}-\vec{b}|}.$$

由此可见  $s = k$ , 即  $T = T'$ .

6. 已知线段  $AB$  被点  $C(2, 0, 2)$  和  $D(5, -2, 0)$  三等分, 试求出这线段的两个端点  $A, B$  的坐标.

解: 不妨设  $A, B, C, D$  四点如图所示. 设  $A, B$  两点的坐标分别为  $(x_A, y_A, z_A)$  与  $(x_B, y_B, z_B)$ , 则  $\overrightarrow{AC} = \overrightarrow{CD}, \overrightarrow{CD} = \overrightarrow{DB}$ . 所以

$$(x_C - x_A, y_C - y_A, z_C - z_A) = (x_D - x_C, y_D - y_C, z_D - z_C),$$

即:

$$\begin{cases} x_A = 2x_C - x_D = -1 \\ y_A = 2y_C - y_D = 2 \\ z_A = 2z_C - z_D = 4. \end{cases}$$

同理,

$$\begin{cases} x_B = 2x_D - x_C = 8 \\ y_B = 2y_D - y_C = -4 \\ z_B = 2z_D - z_C = -2. \end{cases}$$

因此  $A, B$  两点的坐标分别为  $(-1, 2, 4)$  与  $(8, -4, -2)$  (两种可能).


7. 已知  $A, B$  两点的坐标分别为  $(1, -2, 3), (4, 1, 2)$ .

(1) 试确定点  $P$  的坐标, 使点  $P$  分线段  $AB$  成定比  $3:2$ ;


(2) 试确定点  $P$  的坐标, 使点  $P$  分线段  $BA$  成定比  $-2:3$ .

解: (1) 由  $|\overrightarrow{AP}| : |\overrightarrow{PB}| = 3:2$  可得  $\overrightarrow{AP} = \frac{3}{2}\overrightarrow{PB}$ . 利用例 3.1 的定比分点公式, 取  $k = \frac{3}{2}$ , 可得  $P$  点坐标  $(\frac{14}{5}, -\frac{1}{5}, \frac{12}{5})$ .

(2) 由已知条件可得  $\overrightarrow{BP} = -\frac{2}{3}\overrightarrow{PA}$ , 用定比分点公式算得  $P$  点坐标  $(10, 7, 0)$ .



第6题图



第9题图

8.  $ABCD$  为平行四边形. 已知  $A, B$  及对角线交点的坐标分别为  $(-3, 1, 5), (2, -3, 4), (1, -1, 2)$ . 试确定点  $C, D$  的坐标.

解: 设对角线交点为  $M, C, D$  的坐标分别为  $(x_C, y_C, z_C), (x_D, y_D, z_D)$ . 由于  $M$  是  $A, C$  的中点, 因此

$$\begin{cases} \frac{1}{2}(-3 + x_C) = 1 \\ \frac{1}{2}(1 + y_C) = -1 \\ \frac{1}{2}(5 + z_C) = 2, \end{cases}$$

解得  $C$  点坐标为  $(5, -3, -1)$ . 由于  $M$  也是  $B, D$  的中点, 同理可得  $D$  点坐标为  $(0, 1, 0)$ .

9. 设  $A, B$  两点的坐标分别为  $(-6, 5, -8), (4, 0, 7)$ , 试确定点  $C, D, E, F$ , 使  $C, D, E, F$  将线段  $AB$  五等分.

解: 不妨设  $A, B, C, D, E, F$  如图. 所以

$$\begin{aligned}\overrightarrow{AC} &= \frac{1}{4}\overrightarrow{CB}, & \overrightarrow{AD} &= \frac{2}{3}\overrightarrow{DB}, \\ \overrightarrow{AE} &= \frac{3}{2}\overrightarrow{EB}, & \overrightarrow{AF} &= 4\overrightarrow{FB}.\end{aligned}$$

利用定比分点公式算得  $C$  点坐标为  $(-4, 4, -5)$ ,  $D$  点坐标为  $(-2, 3, -2)$ ,  $E$  点坐标为  $(0, 2, 1)$ ,  $F$  点坐标为  $(2, 1, 4)$ .

10. 如图, 已知平行六面体  $OABC - O_1A_1B_1C_1$  中, 点  $P$  在棱  $AA_1$  上, 且  $|AP| = 2|PA_1|$ , 点  $S$  在棱  $CC_1$  上, 且  $|CS| = \frac{1}{2}|SC_1|$ , 点  $Q, R$  分别是棱  $O_1C_1, AB$  的中点. 求证: 直线  $PQ$  与直线  $RS$  平行.

证明: 建立坐标系  $[O; \overrightarrow{OA}, \overrightarrow{OC}, \overrightarrow{OO_1}]$ . 因为  $|\overrightarrow{AP}| = 2|\overrightarrow{PA_1}|$ , 所以

$$\begin{aligned}\overrightarrow{AP} &= 2\overrightarrow{PA_1} = \frac{2}{3}\overrightarrow{AA_1}, \\ \overrightarrow{OP} &= \overrightarrow{OA} + \overrightarrow{AP} = \overrightarrow{OA} + \frac{2}{3}\overrightarrow{AA_1} = \overrightarrow{OA} + \frac{2}{3}\overrightarrow{OO_1}, \\ \overrightarrow{OQ} &= \overrightarrow{OO_1} + \overrightarrow{O_1Q} = \overrightarrow{OO_1} + \frac{1}{2}\overrightarrow{OC},\end{aligned}$$

从而

$$\overrightarrow{PQ} = \overrightarrow{OQ} - \overrightarrow{OP} = -\overrightarrow{OA} + \frac{2}{3}\overrightarrow{OO_1} + \frac{1}{2}\overrightarrow{OC}.$$

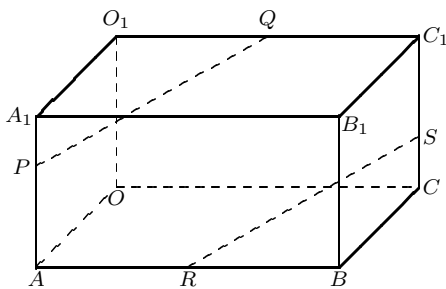
类似地,

$$\begin{aligned}\overrightarrow{OR} &= \overrightarrow{OA} + \overrightarrow{AR} = \overrightarrow{AB} + \frac{1}{2}\overrightarrow{OC}, \\ \overrightarrow{OS} &= \overrightarrow{OC} + \overrightarrow{CS} = \overrightarrow{OC} + \frac{2}{3}\overrightarrow{OO_1},\end{aligned}$$

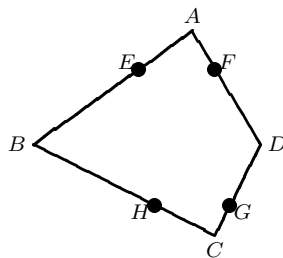
所以

$$\overrightarrow{RS} = \overrightarrow{OS} - \overrightarrow{OR} = -\overrightarrow{OA} + \frac{2}{3}\overrightarrow{OO_1} + \frac{1}{2}\overrightarrow{OC}.$$

这样就有  $\overrightarrow{PQ} = \overrightarrow{RS}$ , 于是  $\overrightarrow{PQ} \parallel \overrightarrow{RS}$ .



第10题图



第11题图

11. 已知空间四边形  $ABCD$ , 将  $AB, AD, CD$  及  $CB$  以相同比分之, 证明这四个分点构成一个平行四边形.

证明: 如图. 设分点为  $E, F, G, H$ . 设

$$\overrightarrow{AE} = k\overrightarrow{EB} = \frac{1}{1+k}\overrightarrow{AB}, \quad \overrightarrow{AF} = k\overrightarrow{FD} = \frac{1}{1+k}\overrightarrow{AD},$$

则

$$\overrightarrow{EF} = \overrightarrow{AF} - \overrightarrow{AE} = \frac{1}{1+k}\overrightarrow{BD}.$$

类似地, 由  $\overrightarrow{CH} = k\overrightarrow{HB}$  以及  $\overrightarrow{CG} = k\overrightarrow{GD}$  可以得到  $\overrightarrow{HG} = \frac{1}{2}\overrightarrow{BD}$ . 因此  $\overrightarrow{EF} = \overrightarrow{HG}$ , 证明了  $EFGH$  是平行四边形.

12. 证明: 四面体的四条中线交于一点(即四面体的重心), 且此交点将每一条中线分成定比为3:1(由顶点算起)的两部分. (注: 四面体的中线即四面体的顶点到其对面的重心的连线)

证明: 建立仿射坐标系  $[V; \vec{VA}, \vec{VB}, \vec{VC}]$ .  $G$  点为  $\triangle ABC$  的重心,  $G_1$  为  $\triangle VBC$  的重心, 由习题1-2的第3题知:

$$\begin{aligned}\vec{VG} &= \frac{1}{3}(\vec{VA} + \vec{VB} + \vec{VC}) = \left(\frac{1}{3}, \frac{1}{3}, \frac{1}{3}\right), \\ \vec{AG}_1 &= \frac{1}{3}(\vec{AB} + \vec{AC} + \vec{AV}) = \frac{1}{3}(\vec{VB} - \vec{VA} + \vec{VC} - \vec{VA} - \vec{VA}) \\ &= \frac{1}{3}(-3\vec{VA} + \vec{VB} + \vec{VC}) = \left(-1, \frac{1}{3}, \frac{1}{3}\right).\end{aligned}$$

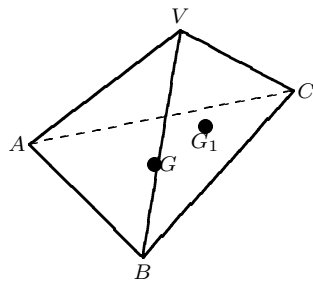
取把中线  $VG$  分成3:1的分点  $M$ , 即

$$\vec{VM} = \frac{3}{4}\vec{VG} = \left(\frac{1}{4}, \frac{1}{4}, \frac{1}{4}\right),$$

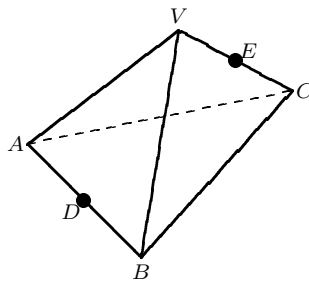
同时,

$$\vec{VA} + \frac{3}{4}\vec{AG}_1 = \left(\frac{1}{4}, \frac{1}{4}, \frac{1}{4}\right) = \vec{VM}.$$

所以  $M$  在  $VG$  与  $AG_1$  上. 同理, 可证得: 若设  $G_2, G_3$  分别是  $\triangle VAB$  和  $\triangle VAC$  的重心. 则  $CG_2$  与  $BG_3$  也必交于点  $M'$ , 且  $\vec{VM}' = \left(\frac{1}{4}, \frac{1}{4}, \frac{1}{4}\right)$ , 因此  $M' = M$ , 且交点分每一中线成定比3:1.



第12题图



第13题图

13. 四面体的不相交的两条棱称为对棱, 每一对对棱的中点的连线称为四面体的拟中线. 证明: 四面体的三条拟中线交于它的重心, 且此重心把每一条拟中线分成长度相等的两部分.

证明: 同上题建立仿射坐标系  $[V; \vec{VA}, \vec{VB}, \vec{VC}]$ , 设  $M$  是四面体的重心, 则  $\vec{VM} = \left(\frac{1}{4}, \frac{1}{4}, \frac{1}{4}\right)$ . 设  $D, E$  分别为  $AB, VC$  的中点. 则

$$\begin{aligned}\vec{AD} &= \frac{1}{2}\vec{AB} = \frac{1}{2}\vec{VB} - \frac{1}{2}\vec{VA}, \\ \vec{VD} &= \frac{1}{2}\vec{VA} + \frac{1}{2}\vec{VB} = \left(\frac{1}{2}, \frac{1}{2}, 0\right), \\ \vec{VE} &= \frac{1}{2}\vec{VC} = \left(0, 0, \frac{1}{2}\right),\end{aligned}$$

所以

$$\vec{ED} = \vec{VD} - \vec{VE} = \left(\frac{1}{2}, \frac{1}{2}, -\frac{1}{2}\right).$$

由于

$$\vec{VE} + \frac{1}{2}\vec{ED} = \left(\frac{1}{4}, \frac{1}{4}, \frac{1}{4}\right) = \vec{VM},$$

说明重心  $M$  在  $ED$  上且等分  $ED$ . 同理可证其它.

1. 计算下列2阶与3阶行列式:

解: (1)  $\begin{vmatrix} -1 & 1 \\ 2 & 3 \end{vmatrix} = -5.$

(2)  $\begin{vmatrix} \cos \theta & -\sin \theta \\ \sin \theta & \cos \theta \end{vmatrix} = 1.$

(3)  $\begin{vmatrix} 1 & 2 & 2 \\ 0 & -1 & 0 \\ 0 & 0 & -1 \end{vmatrix} = 1.$

(4)  $\begin{vmatrix} 1 & 1 & 1 \\ 2 & 3 & 4 \\ 4 & 9 & 16 \end{vmatrix} = 2.$

(5)  $\begin{vmatrix} 2 & 1 & 1 \\ 1 & 1 & 5 \\ 2 & 3 & -3 \end{vmatrix} = -22.$

(6)  $\begin{vmatrix} x & y & z \\ z & x & y \\ y & z & x \end{vmatrix} = x^3 + y^3 + z^3 - 3xyz.$

2. 利用2阶或3阶行列式解线性方程组:

(1)  $\begin{cases} 2x - 3y = 5, \\ 3x + 2y = 1; \end{cases}$

(2)  $\begin{cases} 2x - y + 3z = 9, \\ 3x - 5y + z = -3, \\ x + 3y - 2z = -6. \end{cases}$

解: (1)  $x = \frac{\begin{vmatrix} 5 & -3 \\ 1 & 2 \end{vmatrix}}{\begin{vmatrix} 2 & -3 \\ 3 & 2 \end{vmatrix}} = \frac{13}{13} = 1, y = \frac{\begin{vmatrix} 2 & 5 \\ 3 & 1 \end{vmatrix}}{\begin{vmatrix} 2 & -3 \\ 3 & 2 \end{vmatrix}} = \frac{-13}{13} = -1.$

(2)  $x = \frac{\begin{vmatrix} 9 & -1 & 3 \\ -3 & -5 & 1 \\ -6 & 3 & -2 \end{vmatrix}}{\begin{vmatrix} 2 & -1 & 3 \\ 3 & -5 & 1 \\ 1 & 3 & -2 \end{vmatrix}} = \frac{-42}{49} = -\frac{6}{7}, y = \frac{\begin{vmatrix} 2 & 9 & 3 \\ 3 & -3 & 1 \\ 1 & -6 & -2 \end{vmatrix}}{\begin{vmatrix} 2 & -1 & 3 \\ 3 & -5 & 1 \\ 1 & 3 & -2 \end{vmatrix}} = \frac{42}{49} = \frac{6}{7}, z = \frac{\begin{vmatrix} 2 & -1 & 9 \\ 3 & -5 & -3 \\ 1 & 3 & -6 \end{vmatrix}}{\begin{vmatrix} 2 & -1 & 3 \\ 3 & -5 & 1 \\ 1 & 3 & -2 \end{vmatrix}} =$

$\frac{189}{49} = \frac{27}{7}.$

3. 设  $\vec{e}_1, \vec{e}_2, \vec{e}_3$  为基.

(1) 证明: 向量  $\vec{a} = \vec{e}_1 + 3\vec{e}_2 - \vec{e}_3, \vec{b} = 2\vec{e}_1 - 3\vec{e}_2 - 10\vec{e}_3, \vec{c} = -\vec{e}_1 + 2\vec{e}_2 + 6\vec{e}_3$  线性无关;

(2) 求向量  $\vec{d} = 3\vec{a} - 2\vec{b} + \vec{c}$  在基  $\vec{e}_1, \vec{e}_2, \vec{e}_3$  下的坐标;

(3) 求向量  $\vec{f}$ , 使  $-\vec{a} + 2\vec{b} - 3\vec{c} + 3\vec{f} = 0.$

解: (1) 设有实数  $x_1, x_2, x_3$  满足线性关系式  $x_1\vec{a} + x_2\vec{b} + x_3\vec{c} = 0$ , 表达成坐标形式就是

$$\begin{cases} x_1 + 2x_2 - x_3 = 0 \\ 3x_1 - 3x_2 + 2x_3 = 0 \\ -x_1 - 10x_2 + 6x_3 = 0, \end{cases}$$

它的系数行列式是

$$\begin{vmatrix} 1 & 2 & -1 \\ 3 & -3 & 2 \\ -1 & -10 & 6 \end{vmatrix} = -5 \neq 0,$$

因此这个方程组只有零解, 即  $\vec{a}, \vec{b}, \vec{c}$  线性无关.

(2)  $\vec{d} = 3\vec{a} - 2\vec{b} + \vec{c} = 3(\vec{e}_1 + 3\vec{e}_2 - \vec{e}_3) - 2(2\vec{e}_1 - 3\vec{e}_2 - 10\vec{e}_3) + (-\vec{e}_1 + 2\vec{e}_2 + 6\vec{e}_3) = -2\vec{e}_1 + 17\vec{e}_2 + 23\vec{e}_3$ , 故  $\vec{d}$  的坐标是  $(-2, 17, 23)$ .

(3)  $\vec{f} = \frac{1}{3}(\vec{a} - 2\vec{b} + 3\vec{c}) = \frac{1}{3}(-6\vec{e}_1 + 15\vec{e}_2 + 37\vec{e}_3) = -2\vec{e}_1 + 5\vec{e}_2 + \frac{37}{3}\vec{e}_3.$

4. 判断下列每组的三个向量  $\vec{a}, \vec{b}, \vec{c}$  是否共面? 能否将  $\vec{c}$  表示成其它两个向量的线性组合? 若能, 写出具体的表示式子.

(1)  $\vec{a}(5, 2, 1), \vec{b}(-1, 4, 2), \vec{c}(-1, -1, 5);$

(2)  $\vec{a}(3, 3, 2), \vec{b}(6, 6, 4), \vec{c}(1, -1, 0);$

(3)  $\vec{a}(1, 2, -3)$ ,  $\vec{b}(-2, -4, 6)$ ,  $\vec{c}(1, 0, 5)$ .

解: 问题归结为求解  $x_1\vec{a} + x_2\vec{b} + x_3\vec{c} = 0$ .

(1) 齐次线性方程组

$$\begin{cases} 5x_1 - x_2 - x_3 = 0 \\ 2x_1 + 4x_2 - x_3 = 0 \\ x_1 + 2x_2 + 5x_3 = 0, \end{cases}$$

其系数行列式

$$\begin{vmatrix} 5 & -1 & -1 \\ 2 & 4 & -1 \\ 1 & 2 & 5 \end{vmatrix} = 121 \neq 0,$$

方程只有零解, 故原向量组不共面.

(2) 齐次线性方程组

$$\begin{cases} 3x_1 + 6x_2 + x_3 = 0 \\ 3x_1 + 6x_2 - x_3 = 0 \\ 2x_1 + 4x_2 = 0, \end{cases}$$

其系数行列式

$$\begin{vmatrix} 3 & 6 & 1 \\ 3 & 6 & -1 \\ 2 & 4 & 0 \end{vmatrix} = 0,$$

方程组有非零解, 故原向量组共面. 为将  $\vec{c}$  表示成  $\vec{a}$ ,  $\vec{b}$  的线性组合, 可取  $x_3 = -1$  代入, 得到方程组

$$\begin{cases} 3x_1 + 6x_2 = 1 \\ 3x_1 + 6x_2 = 1 \\ 2x_1 + 4x_2 = 0, \end{cases}$$

这是矛盾方程组, 因此  $\vec{c}$  不能表示成  $\vec{a}$ ,  $\vec{b}$  的线性组合.

(3) 齐次线性方程组

$$\begin{cases} x_1 - 2x_2 + x_3 = 0 \\ 2x_1 - 4x_2 = 0 \\ -3x_1 + 6x_2 + 5x_3 = 0, \end{cases}$$

其系数行列式

$$\begin{vmatrix} 1 & -2 & 1 \\ 2 & -4 & 0 \\ -3 & 6 & 5 \end{vmatrix} = 0,$$

方程组有非零解, 故原向量组共面. 为将  $\vec{c}$  表示成  $\vec{a}$ ,  $\vec{b}$  的线性组合, 可取  $x_3 = -1$  代入, 得到方程组

$$\begin{cases} x_1 - 2x_2 = -1 \\ 2x_1 - 4x_2 = 0 \\ -3x_1 + 6x_2 = -5, \end{cases}$$

这是矛盾方程组, 因此  $\vec{c}$  不能表示成  $\vec{a}$ ,  $\vec{b}$  的线性组合.

5. 设向量  $\vec{a}$ ,  $\vec{b}$ ,  $\vec{c}$  的坐标分别是  $(1, -1, 2)$ ,  $(2, k, 1)$ ,  $(1, 1-k, k)$ . 问: 当  $k$  取什么值时,  $\vec{a}$ ,  $\vec{b}$ ,  $\vec{c}$  共面? 特别地,  $k$  取什么值时,  $\vec{a}$ ,  $\vec{c}$  共线?

解: 这 3 个向量共面的充分必要条件是其坐标的行列式等于 0, 即

$$\begin{vmatrix} 1 & -1 & 2 \\ 2 & k & 1 \\ 1 & 1-k & k \end{vmatrix} = k^2 - 3k + 2 = 0.$$

因此当  $k = 1$  或  $2$  时这 3 个向量共面. 要使  $\vec{a}, \vec{c}$  共线必须使它们的相应坐标成比例, 即  $\frac{1}{1} = \frac{1-k}{-1} = \frac{k}{2}$ , 解得  $k = 2$ . 因此当  $k = 2$  时  $\vec{a}, \vec{c}$  共线.

6. 设  $\vec{e}_1, \vec{e}_2, \vec{e}_3$  为基. 问向量  $\vec{v}$  能否表为向量  $\vec{a}, \vec{b}, \vec{c}$  的线性组合? 如能, 则写出表达式.

$$(1) \vec{a} = \vec{e}_1 + 2\vec{e}_2 + 4\vec{e}_3, \vec{b} = \vec{e}_1 - \vec{e}_2 + \vec{e}_3, \vec{c} = \vec{e}_1 + \vec{e}_2 + 3\vec{e}_3, \vec{v} = 6\vec{e}_1 + 3\vec{e}_2 + 15\vec{e}_3;$$

$$(2) \vec{a} = \vec{e}_1 - 2\vec{e}_2 + 3\vec{e}_3, \vec{b} = \vec{e}_1 + 2\vec{e}_2 + 2\vec{e}_3, \vec{c} = -\vec{e}_1 + 6\vec{e}_2 + 5\vec{e}_3, \vec{v} = 2\vec{e}_1 + \vec{e}_2.$$

解: 设  $\vec{v} = x_1\vec{a} + x_2\vec{b} + x_3\vec{c}$ , 问题归结为解线性方程组.

(1) 方程组为

$$\begin{cases} x_1 + x_2 + x_3 = 6 \\ 2x_1 - x_2 + x_3 = 3 \\ 4x_1 + x_2 + 3x_3 = 15, \end{cases}$$

系数行列式  $\begin{vmatrix} 1 & 1 & 1 \\ 2 & -1 & 1 \\ 4 & 1 & 3 \end{vmatrix} = 0$ , 不能断定方程组是否有解. 用加减消去法解得  $\begin{cases} x_1 = 3 - \frac{2}{3}x_3 \\ x_2 = 3 - \frac{1}{3}x_3, \end{cases}$  令

$x_3 = 3k$  可以得到线性表示式  $\vec{v} = (3 - 2k)\vec{a} + (3 - k)\vec{b} + 3k\vec{c}$ , 其中  $k$  为任意数.

(2) 方程组为  $\begin{cases} x_1 + x_2 - x_3 = 2 \\ -2x_1 + 2x_2 + 6x_3 = 1 \\ 3x_1 + 2x_2 + 5x_3 = 0, \end{cases}$  系数行列式

$$\begin{vmatrix} 1 & 1 & -1 \\ -2 & 2 & 6 \\ 3 & 2 & 5 \end{vmatrix} = 36,$$

方程组有解:

$$x_1 = \frac{\begin{vmatrix} 2 & 1 & -1 \\ 1 & 2 & 6 \\ 0 & 2 & 5 \end{vmatrix}}{36} = -\frac{11}{36}, \quad x_2 = \frac{\begin{vmatrix} 1 & 2 & -1 \\ -2 & 1 & 6 \\ 3 & 0 & 5 \end{vmatrix}}{36} = \frac{16}{9}, \quad x_3 = \frac{\begin{vmatrix} 1 & 1 & 2 \\ -2 & 2 & 1 \\ 3 & 2 & 0 \end{vmatrix}}{36} = -\frac{19}{36}.$$

线性表示式为  $\vec{v} = -\frac{11}{36}\vec{a} + \frac{16}{9}\vec{b} - \frac{19}{36}\vec{c}$ .

7. 当  $a$  为何值时, 下列四点共面:

$$M_1(1, a, a^2), \quad M_2(1, -1, 1), \quad M_3(2, 1, -2), \quad M_4(-1, 2, 2).$$

解: 根据推论 4.5, 此 4 点共面的充分必要条件是

$$\begin{vmatrix} 1-1 & 2-1 & -1-1 \\ -1-a & 1-a & 2-a \\ 1-a^2 & -2-a^2 & 2-a^2 \end{vmatrix} = -7a^2 - 5a + 2 = 0,$$

解得  $a = -1$  或  $\frac{2}{7}$ .

### 习题 1-5

1. 根据  $n$  维向量的定义证明: 对任意  $n$  维向量  $\alpha$ , 有

(1)  $0\alpha = 0$ ;

(2)  $(-1)\alpha = -\alpha$ ;

(3)  $k0 = 0$  (任意数  $k$ );

(4) 从  $k\alpha = 0$  推出  $k = 0$  或  $\alpha = 0$ .

证明: 对任意的  $\alpha = (a_1, \dots, a_n)$ , 则:



$$(1) 0\alpha = (0a_1, \dots, 0a_n) = (0, \dots, 0) = 0.$$

$$(2) (-1)\alpha = ((-1)a_1, \dots, (-1)a_n) = (-a_1, \dots, -a_n) = -\alpha.$$

$$(3) k0 = (k0, \dots, k0) = (0, \dots, 0) = 0.$$

$$(4) k\alpha = (ka_1, \dots, ka_n) = (0, \dots, 0). \text{ 若 } \alpha \neq 0, \text{ 则存在 } a_i \neq 0, \text{ 由 } ka_i = 0 \text{ 可得 } k = 0.$$

2. 证明: 任一数域都包含有理数域.

**证明:** 设  $K$  为一个数域, 则  $1 \in K$ . 所以对任意的正整数  $n$  有  $n = \underbrace{1 + \dots + 1}_n \in K$ , 并且  $n$  的负元  $-n \in K$ . 因此  $K$  含有全部整数. 又因对任意的整数  $n \neq 0, n \in K, \frac{1}{n}$  为  $n$  的逆元, 则  $\frac{1}{n} \in K$ , 所以对任意的有理数  $\frac{m}{n}$  (其中  $m, n$  是整数), 有  $\frac{m}{n} = m \times \frac{1}{n} \in K$ , 故有理数域  $\mathbb{Q} \subseteq K$ .

3. 证明: 全体形如

$$a + b\sqrt{2}, \quad a, b \in \mathbb{Q}$$

的数组成的集合构成一个数域.

**证明:** 把这个集合记为  $K$ , 设  $a_1 + b_1\sqrt{2}, a_2 + b_2\sqrt{2} \in K$ , 则

$$(a_1 + b_1\sqrt{2}) \pm (a_2 + b_2\sqrt{2}) = (a_1 \pm a_2) + (b_1 \pm b_2)\sqrt{2} \in K$$

(因为有理数的和与差仍是有理数);

$$(a_1 + b_1\sqrt{2})(a_2 + b_2\sqrt{2}) = (a_1a_2 + 2b_1b_2) + (a_1b_2 + a_2b_1)\sqrt{2} \in K$$

(因为有理数的和、差与乘积仍是有理数); 当  $a_2 + b_2\sqrt{2} \neq 0$  时,

$$\frac{a_1 + b_1\sqrt{2}}{a_2 + b_2\sqrt{2}} = \frac{(a_1 + b_1\sqrt{2})(a_2 - b_2\sqrt{2})}{a_2^2 - 2b_2^2} = \frac{a_1a_2 - 2b_1b_2}{a_2^2 - 2b_2^2} + \frac{a_2b_1 - a_1b_2}{a_2^2 - 2b_2^2} \in K$$

(有理数关于除法也是封闭的). 因此集合  $K$  关于加减乘除法都封闭, 成为一个数域.

4. 设  $K$  为数域,  $V$  为  $K$  上的  $n$  维向量空间. 证明: 对所有的  $k \in K, \alpha, \beta \in V$ , 有

$$(1) k(\alpha - \beta) = k\alpha - k\beta;$$

$$(2) \underbrace{\alpha + \alpha + \dots + \alpha}_n = n\alpha;$$

$$(3) \text{ 若 } \alpha + \beta = \alpha + \gamma, \text{ 则 } \beta = \gamma.$$

**证明:** 设  $\alpha = (a_1, \dots, a_n), \beta = (b_1, \dots, b_n) (a_i, b_i \in K)$ . 则对任意的  $k \in K$ ,

$$(1) k(\alpha - \beta) = k(a_1 - b_1, \dots, a_n - b_n) = (k(a_1 - b_1), \dots, k(a_n - b_n)) = (ka_1 - kb_1, \dots, ka_n - kb_n) = k(a_1, \dots, a_n) - k(b_1, \dots, b_n) = k\alpha - k\beta.$$

$$(2) \underbrace{\alpha + \dots + \alpha}_n = (\underbrace{a_1 + \dots + a_1}_n, \underbrace{a_2 + \dots + a_2}_n, \dots, \underbrace{a_n + \dots + a_n}_n) = (na_1, \dots, na_n) = n\alpha.$$

$$(3) \text{ 若设 } \gamma = (c_1, \dots, c_n), \text{ 且 } \alpha + \beta = \alpha + \gamma, \text{ 即: } (a_1 + b_1, \dots, a_n + b_n) = (a_1 + c_1, \dots, a_n + c_n), \text{ 则有 } a_i + b_i = a_i + c_i, \text{ 即 } b_i = c_i, \text{ 所以 } \beta = \gamma.$$

## 习题 1-6

1. 将下列向量单位化:

$$(1) \vec{a} = 5\vec{i} - 6\vec{j} + 3\vec{k};$$

$$(2) \vec{b} = \frac{1}{2}\vec{i} - \frac{1}{3}\vec{k}.$$

$$\text{解: } (1) \vec{a}^0 = \frac{\vec{a}}{|\vec{a}|} = \frac{\sqrt{70}}{70}(5\vec{i} - 6\vec{j} + 3\vec{k}).$$

$$(2) \vec{b}^0 = \frac{\vec{b}}{|\vec{b}|} = \frac{\sqrt{13}}{13}(3\vec{i} - 2\vec{k}).$$

2. 计算下列向量的夹角:

$$(1) \vec{a} = (1, -2, 3), \vec{b} = (2, 1, -2);$$

$$(2) \vec{a} = (-2, 1, -1), \vec{b} = (1, -1, 4).$$

解: (1)  $|\vec{a}| = \sqrt{14}, |\vec{b}| = 3, \vec{a} \cdot \vec{b} = -6$ , 所以

$$\cos\langle \vec{a}, \vec{b} \rangle = \frac{-6}{\sqrt{14} \cdot 3} = -\frac{\sqrt{14}}{7}, \quad \langle \vec{a}, \vec{b} \rangle = \pi - \arccos \frac{\sqrt{14}}{7}.$$

(2)  $|\vec{a}| = \sqrt{6}, |\vec{b}| = 3\sqrt{2}, \vec{a} \cdot \vec{b} = -7$ , 所以

$$\cos\langle \vec{a}, \vec{b} \rangle = \frac{-7}{6\sqrt{3}} = -\frac{7\sqrt{3}}{18}, \quad \langle \vec{a}, \vec{b} \rangle = \pi - \arccos \frac{7\sqrt{3}}{18}.$$

3. 求向量  $\vec{a}$  在  $e^0$  上的投影:

$$(1) \vec{a} = (1, -1, 2), \vec{e} = (1, 1, 1);$$

$$(2) \vec{a} = (-2, 1, 3), \vec{e} = (1, 2, 0).$$

解: (1)  $e^0 = \frac{\vec{e}}{|\vec{e}|} = \frac{\sqrt{3}}{3}(1, 1, 1)$ , 则

$$\text{pr}_{e^0} \vec{a} = (\Pi_{e^0} \vec{a}) e^0 = (\vec{a} \cdot e^0) e^0 = \frac{2\sqrt{3}}{3} e^0 = \frac{2\sqrt{3}}{3} \cdot \frac{\sqrt{3}}{3} (1, 1, 1) = \frac{2}{3} (1, 1, 1).$$

(2) 因  $\vec{a} \cdot \vec{e} = 0$ , 所以  $\text{pr}_{e^0} \vec{a} = 0$ .

4. 证明: 以  $A(3, -1, 2), B(0, -4, 2), C(-3, 2, 1)$  为顶点的三角形是等腰三角形.

证明:  $\vec{AB} = (-3, -3, 0), \vec{AC} = (-6, 3, -1), \vec{BC} = (-3, 6, -1), |\vec{AB}| = 3\sqrt{2}, |\vec{AC}| = |\vec{BC}| = \sqrt{46} \neq |\vec{AB}|$ , 所以  $\triangle ABC$  是等腰三角形.

5. 证明: 以  $A(3, -2, 1), B(7, 6, 9), C(9, 1, -5)$  为顶点的三角形是直角三角形.

证明:  $\vec{AB} = (4, 8, 8), \vec{AC} = (6, 3, -6), \vec{AB} \cdot \vec{AC} = 12(2 + 2 - 4) = 0$ , 所以  $\triangle ABC$  是直角三角形.

6. 试问  $(\vec{a} \cdot \vec{b}) \vec{c} = \vec{a}(\vec{b} \cdot \vec{c})$  一定成立吗? 请给出该向量等式成立的条件.

解: 等式左端是与  $\vec{c}$  共线的向量, 右端是与  $\vec{a}$  共线的向量. 如果两端都不等于 0, 则  $\vec{a}$  与  $\vec{c}$  共线, 即存在  $k \neq 0$ , 使  $\vec{a} = k\vec{c}$ . 反之若  $\vec{a} = k\vec{c}$ , 左边  $= k(\vec{c} \cdot \vec{b}) \vec{c} = (k\vec{c})(\vec{b} \cdot \vec{c}) =$  右边.

若等式两边都等于 0, 则或者  $\vec{a}, \vec{b}, \vec{c}$  中至少有一个零向量; 或者三个向量都不等于 0, 但  $\vec{a} \cdot \vec{b} = \vec{b} \cdot \vec{c} = 0$ , 即  $\vec{b}$  与  $\vec{a}, \vec{c}$  均正交.

7. 求解向量方程  $\vec{a} \vec{x} = \vec{b} \vec{x}$ .

解: 因为  $(\vec{a} - \vec{b}) \vec{x} = 0$ , 分两种情况: (a) 若  $\vec{a} - \vec{b} \neq 0$ , 则解  $\vec{x}$  为任意与  $\vec{a} - \vec{b}$  垂直的向量; (b) 若  $\vec{a} - \vec{b} = 0$ , 则任意向量  $\vec{x}$  都是解向量.

8. 设有三个向量  $\vec{a}, \vec{b}, \vec{c}$  两两构成  $60^\circ$  角, 且知  $|\vec{a}| = 4, |\vec{b}| = 2, |\vec{c}| = 6$ . 求  $\vec{a} + \vec{b} + \vec{c}$  的长度.

解:  $|\vec{a} + \vec{b} + \vec{c}|^2 = (\vec{a} + \vec{b} + \vec{c}) \cdot (\vec{a} + \vec{b} + \vec{c}) = \vec{a}^2 + \vec{b}^2 + \vec{c}^2 + 2\vec{a} \cdot \vec{b} + 2\vec{a} \cdot \vec{c} + 2\vec{b} \cdot \vec{c} = 16 + 4 + 36 + 2(8 + 24 + 12) \cos 60^\circ = 100$ . 所以  $|\vec{a} + \vec{b} + \vec{c}| = 10$ .

9. 已知  $|\vec{a}| = 3, |\vec{b}| = 2, \langle \vec{a}, \vec{b} \rangle = \frac{\pi}{6}$ . 试求  $3\vec{a} + 2\vec{b}$  与  $2\vec{a} - 5\vec{b}$  的内积.

解:  $(3\vec{a} + 2\vec{b}) \cdot (2\vec{a} - 5\vec{b}) = 6\vec{a}^2 - 10\vec{b}^2 - 11\vec{a} \cdot \vec{b} = 54 - 40 - 11 \times 3 \times 2 \times \frac{\sqrt{3}}{2} = 14 - 33\sqrt{3}$ .

\*10. 设一个四边形各边之长分别是  $a, b, c, d$ , 且其对角线互相垂直. 求证各边之长也是  $a, b, c, d$  的任一四边形的两条对角线也相互垂直.

证明: 如图, 有

$$\begin{aligned}\overrightarrow{AC} &= \overrightarrow{AB} + \overrightarrow{BC} = \overrightarrow{AD} + \overrightarrow{DC}, \\ \overrightarrow{BD} &= \overrightarrow{BC} + \overrightarrow{CD} = \overrightarrow{BA} + \overrightarrow{AD}.\end{aligned}$$

考虑以下内积:

$$\begin{aligned}\overrightarrow{AC} \cdot \overrightarrow{BD} &= (\overrightarrow{AB} + \overrightarrow{BC}) \cdot (\overrightarrow{BC} + \overrightarrow{CD}) = \overrightarrow{BC}^2 + \overrightarrow{AB} \cdot \overrightarrow{BC} + \overrightarrow{AB} \cdot \overrightarrow{CD} + \overrightarrow{BC} \cdot \overrightarrow{CD}; \\ \overrightarrow{AC} \cdot \overrightarrow{BD} &= (\overrightarrow{AB} + \overrightarrow{BC}) \cdot (\overrightarrow{BA} + \overrightarrow{AD}) = -\overrightarrow{AB}^2 + \overrightarrow{AB} \cdot \overrightarrow{AD} - \overrightarrow{AB} \cdot \overrightarrow{BC} + \overrightarrow{AD} \cdot \overrightarrow{BC}; \\ \overrightarrow{AC} \cdot \overrightarrow{BD} &= (\overrightarrow{AD} + \overrightarrow{DC}) \cdot (\overrightarrow{BC} + \overrightarrow{CD}) = -\overrightarrow{CD}^2 + \overrightarrow{AD} \cdot \overrightarrow{BC} + \overrightarrow{AD} \cdot \overrightarrow{CD} - \overrightarrow{BC} \cdot \overrightarrow{CD}; \\ \overrightarrow{AC} \cdot \overrightarrow{BD} &= (\overrightarrow{AD} + \overrightarrow{DC}) \cdot (\overrightarrow{BA} + \overrightarrow{AD}) = \overrightarrow{AD}^2 - \overrightarrow{AB} \cdot \overrightarrow{AD} + \overrightarrow{AB} \cdot \overrightarrow{CD} - \overrightarrow{AD} \cdot \overrightarrow{CD}.\end{aligned}$$

将上述4式相加, 可得:

$$4\overrightarrow{AC} \cdot \overrightarrow{BD} = \overrightarrow{AD}^2 + \overrightarrow{BC}^2 - \overrightarrow{AB}^2 - \overrightarrow{CD}^2 + 2\overrightarrow{AB} \cdot \overrightarrow{CD} + 2\overrightarrow{AD} \cdot \overrightarrow{BC}.$$

由

$$\overrightarrow{AB} + \overrightarrow{BC} + \overrightarrow{CD} + \overrightarrow{DA} = 0$$

可得

$$\overrightarrow{AB} + \overrightarrow{CD} = \overrightarrow{AD} - \overrightarrow{BC}.$$

由

$$(\overrightarrow{AB} + \overrightarrow{CD})^2 = (\overrightarrow{AD} - \overrightarrow{BC})^2$$

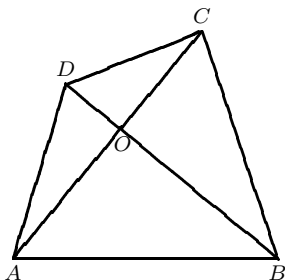
整理得

$$\overrightarrow{AD}^2 + \overrightarrow{BC}^2 - \overrightarrow{AB}^2 - \overrightarrow{CD}^2 = 2(\overrightarrow{AB} \cdot \overrightarrow{CD} + \overrightarrow{AD} \cdot \overrightarrow{BC}).$$

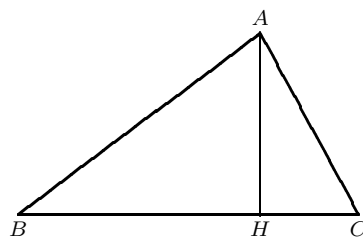
代入上式得

$$4\overrightarrow{AC} \cdot \overrightarrow{BD} = 2(\overrightarrow{AD}^2 + \overrightarrow{BC}^2 - \overrightarrow{AB}^2 - \overrightarrow{CD}^2) = 2(b^2 + d^2 - a^2 - c^2).$$

这说明对角线垂直的充分必要条件是  $a^2 + c^2 = b^2 + d^2$ , 只与四边形的边长有关.



第10题图



第11题图

11. 三角形  $ABC$  中, 已知  $BC$  边上的高为  $AH$ . 试用  $\overrightarrow{AB}$ ,  $\overrightarrow{AC}$  表示  $\overrightarrow{AH}$ .

解: 将  $\overrightarrow{AH} = \overrightarrow{AB} + k\overrightarrow{BC}$  代入  $\overrightarrow{AH} \cdot \overrightarrow{BC} = 0$ , 得  $\overrightarrow{AB} \cdot \overrightarrow{BC} + k\overrightarrow{BC}^2 = 0$ . 因此

$$k = \frac{-\overrightarrow{AB} \cdot \overrightarrow{BC}}{\overrightarrow{BC}^2},$$

得

$$\overrightarrow{AH} = \overrightarrow{AB} - \frac{(\overrightarrow{AB} \cdot \overrightarrow{BC})\overrightarrow{BC}}{\overrightarrow{BC}^2}.$$

再用  $\overrightarrow{BC} = \overrightarrow{AC} - \overrightarrow{AB}$  代入, 整理后得

$$\overrightarrow{AH} = \frac{1}{(\overrightarrow{AC} - \overrightarrow{AB})^2} [(\overrightarrow{AC} \cdot (\overrightarrow{AC} - \overrightarrow{AB}))\overrightarrow{AB} - (\overrightarrow{AB} \cdot (\overrightarrow{AC} - \overrightarrow{AB}))\overrightarrow{AC}].$$

12. 在直角坐标系中,  $\vec{a}$ ,  $\vec{b}$ ,  $\vec{c}$  的坐标分别是  $(3, 5, 7)$ ,  $(0, 4, 3)$ ,  $(-1, 2, -4)$ . 求  $3\vec{a} + 4\vec{b} - 5\vec{c}$  与  $2\vec{b} + \vec{c}$  的夹角.

解: 记

$$\vec{p} = 3\vec{a} + 4\vec{b} - 5\vec{c} = (14, 21, 53), \quad \vec{q} = 2\vec{b} + \vec{c} = (-1, 10, 2),$$

则

$$\vec{p}^2 = 3446, \quad \vec{q}^2 = 105, \quad \vec{p} \cdot \vec{q} = 302.$$

所以

$$\cos\langle \vec{p}, \vec{q} \rangle = \frac{151\sqrt{361830}}{180915}.$$

13. 求下列向量的方向余弦:

(1)  $\vec{a} = (2, -3, -6)$ ; (2)  $\vec{b} = (2, 3, -10)$ .

解: (1)  $\cos\alpha = \frac{2}{7}$ ,  $\cos\beta = \frac{-3}{7}$ ,  $\cos\gamma = \frac{-6}{7}$ .

(2)  $\cos\alpha = \frac{2\sqrt{113}}{113}$ ,  $\cos\beta = \frac{3\sqrt{113}}{113}$ ,  $\cos\gamma = -\frac{10\sqrt{113}}{113}$ .

14. 计算正方体的对角线与其的任一个面的对角线之间的夹角.

解: 建立直角坐标系  $[A; \vec{AB}, \vec{AD}, \vec{AA}_1]$ , 以对角线  $AC_1$  来计算此题.

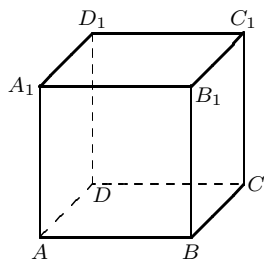
$$\vec{AC}_1 = \vec{AB} + \vec{BC} + \vec{CC}_1 = \vec{AB} + \vec{AD} + \vec{AA}_1 = (1, 1, 1).$$

(a)  $\vec{AB}_1 = \vec{AB} + \vec{BB}_1 = \vec{AB} + \vec{AA}_1 = (1, 0, 1)$ , 所以  $\cos\langle \vec{AC}_1, \vec{AB}_1 \rangle = \frac{2}{\sqrt{3} \cdot \sqrt{2}} = \frac{\sqrt{6}}{3}$ . 由对称性,

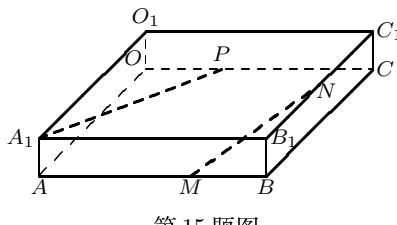
$\vec{AC}_1$  与  $\vec{A_1C_1}$ ,  $\vec{AD_1}$ ,  $\vec{BC_1}$ ,  $\vec{DC_1}$ ,  $\vec{AC}$  的夹角余弦也为  $\frac{\sqrt{6}}{3}$ .

(b)  $\vec{BD} = \vec{AD} - \vec{AB} = (-1, 0, 1)$ , 所以  $\cos\langle \vec{AC}_1, \vec{BD} \rangle = \frac{0}{\sqrt{3} \cdot \sqrt{2}} = 0$ , 即  $\langle \vec{AC}_1, \vec{BD} \rangle = \frac{\pi}{2}$ . 同理,

$\vec{AC}_1$  与  $\vec{B_1D}$ ,  $\vec{DA_1}$ ,  $\vec{CB_1}$ ,  $\vec{BA_1}$ ,  $\vec{CD_1}$  的夹角也为  $\frac{\pi}{2}$ .



第14题图



第15题图

15. 如图, 已知长方体  $OABC-O_1A_1B_1C_1$  中,  $|OA| = 8$ ,  $|OC| = 6$ ,  $|OO_1| = 1$ .  $P$  是棱  $OC$  上的点, 且  $|PC| = 2|OP|$ ,  $M$  是棱  $AB$  上的点, 且  $|AM| = 2|MB|$ ,  $N$  是棱  $B_1C_1$  的中点. 求直线  $A_1P$  与直线  $MN$  所成的角.

解: 把向量  $\vec{OA}$ ,  $\vec{OC}$ ,  $\vec{OO_1}$  的单位向量记为  $\vec{i}$ ,  $\vec{j}$ ,  $\vec{k}$ , 建立直角坐标系  $[O; \vec{i}, \vec{j}, \vec{k}]$ . 则

$$\vec{OA_1} = 8\vec{i} + \vec{k} = (8, 0, 1);$$

$$\vec{OP} = \frac{1}{3}\vec{OC} = 2\vec{j} = (0, 2, 0);$$

$$\vec{OM} = 8\vec{i} + \frac{2}{3}\vec{OC} = 8\vec{i} + 4\vec{j} = (8, 4, 0);$$

$$\vec{ON} = \frac{1}{2}\vec{OA} + 6\vec{j} + \vec{k} = (4, 6, 1);$$

因此

$$\vec{A_1P} = \vec{OP} - \vec{OA_1} = (-8, 2, -1);$$

$$\overrightarrow{MN} = \overrightarrow{ON} - \overrightarrow{OM} = (-4, 2, 1).$$

所以

$$\cos\langle \overrightarrow{A_1P}, \overrightarrow{MN} \rangle = \frac{35}{\sqrt{69}\sqrt{21}} = \frac{5\sqrt{161}}{69}.$$

16. 若向量  $\vec{a}, \vec{b}, \vec{c}$  不共面, 而且  $\vec{a} \cdot \vec{x} = 0, \vec{b} \cdot \vec{x} = 0, \vec{c} \cdot \vec{x} = 0$ . 则  $\vec{x} = 0$ . 试证之.

证明: 因为  $\vec{a}, \vec{b}, \vec{c}$  不共面, 所以它们线性无关, 且  $\vec{x}$  可由它们线性表示, 即:  $\vec{x} = k_1\vec{a} + k_2\vec{b} + k_3\vec{c}$ . 于是  $\vec{x}^2 = k_1(\vec{a} \cdot \vec{x}) + k_2(\vec{b} \cdot \vec{x}) + k_3(\vec{c} \cdot \vec{x}) = 0$ , 即:  $\vec{x} = 0$ .

17. 证明三个向量  $\vec{a}, \vec{b}, \vec{c}$  共面的充分必要条件是

$$\begin{vmatrix} \vec{a} \cdot \vec{a} & \vec{a} \cdot \vec{b} & \vec{a} \cdot \vec{c} \\ \vec{b} \cdot \vec{a} & \vec{b} \cdot \vec{b} & \vec{b} \cdot \vec{c} \\ \vec{c} \cdot \vec{a} & \vec{c} \cdot \vec{b} & \vec{c} \cdot \vec{c} \end{vmatrix} = 0.$$

证明:  $\vec{a}, \vec{b}, \vec{c}$  共面当且仅当有不全为零的实数  $k_1, k_2, k_3$  使:  $k_1\vec{a} + k_2\vec{b} + k_3\vec{c} = 0$ . 从而

$$\begin{cases} k_1\vec{a}^2 + k_2(\vec{a} \cdot \vec{b}) + k_3(\vec{a} \cdot \vec{c}) = 0 \\ k_1(\vec{b} \cdot \vec{a}) + k_2\vec{b}^2 + k_3(\vec{b} \cdot \vec{c}) = 0 \\ k_1(\vec{c} \cdot \vec{a}) + k_2(\vec{c} \cdot \vec{b}) + k_3\vec{c}^2 = 0, \end{cases}$$

也即齐次线性方程组

$$\begin{cases} x\vec{a}^2 + y(\vec{a} \cdot \vec{b}) + z(\vec{a} \cdot \vec{c}) = 0 \\ x(\vec{b} \cdot \vec{a}) + y\vec{b}^2 + z(\vec{b} \cdot \vec{c}) = 0 \\ x(\vec{c} \cdot \vec{a}) + y(\vec{c} \cdot \vec{b}) + z\vec{c}^2 = 0 \end{cases} \quad (*)$$

有非零解  $x = k_1, y = k_2, z = k_3$ . 根据引理 4.1, 系数行列式

$$\begin{vmatrix} \vec{a}^2 & \vec{a} \cdot \vec{b} & \vec{a} \cdot \vec{c} \\ \vec{b} \cdot \vec{a} & \vec{b}^2 & \vec{b} \cdot \vec{c} \\ \vec{c} \cdot \vec{a} & \vec{c} \cdot \vec{b} & \vec{c}^2 \end{vmatrix} = 0.$$

反之, 若

$$\begin{vmatrix} \vec{a}^2 & \vec{a} \cdot \vec{b} & \vec{a} \cdot \vec{c} \\ \vec{b} \cdot \vec{a} & \vec{b}^2 & \vec{b} \cdot \vec{c} \\ \vec{c} \cdot \vec{a} & \vec{c} \cdot \vec{b} & \vec{c}^2 \end{vmatrix} = 0,$$

则(\*)必有非零解, 设为  $x = k_1, y = k_2, z = k_3$ , 令  $\vec{p} = k_1\vec{a} + k_2\vec{b} + k_3\vec{c}$ , 那么. 从(\*)知:

$$\vec{p}^2 = k_1\vec{p} \cdot \vec{a} + k_2\vec{p} \cdot \vec{b} + k_3\vec{p} \cdot \vec{c} = 0,$$

即  $\vec{p} = 0$ ,  $\vec{a}, \vec{b}, \vec{c}$  线性无关, 必定共面.

### 习 题 1-7

1. 在直角坐标系中, 已知  $\vec{a}, \vec{b}, \vec{c}$  的坐标分别是  $(1, 0, 1), (1, -2, 0), (-1, 2, 1)$ , 求  $(3\vec{a} + \vec{b}) \times (\vec{b} - \vec{c})$  的坐标.

解:  $3\vec{a} + \vec{b} = (4, -2, 3), \vec{b} - \vec{c} = (2, -4, -1)$ , 所以

$$(3\vec{a} + \vec{b}) \times (\vec{b} - \vec{c}) = \left( \begin{vmatrix} -2 & 3 \\ -4 & -1 \end{vmatrix}, - \begin{vmatrix} 4 & 3 \\ 2 & -1 \end{vmatrix}, \begin{vmatrix} 4 & -2 \\ 2 & -4 \end{vmatrix} \right) = (14, 10, -12).$$

2. 证明  $(\vec{a} \times \vec{b})^2 \leq \vec{a}^2 \vec{b}^2$ . 并说明等式何时成立.

证明:  $(\vec{a} \times \vec{b})^2 = |\vec{a} \times \vec{b}|^2 = |\vec{a}|^2 |\vec{b}|^2 \sin^2\langle \vec{a}, \vec{b} \rangle \leq |\vec{a}|^2 |\vec{b}|^2$ , 等号成立当且仅当  $\sin\langle \vec{a}, \vec{b} \rangle = 0$ . 即:  $\vec{a} \parallel \vec{b}$ .

3. 已知  $\vec{a}, \vec{b}$  是两个互不平行的向量, 求证  $(\vec{a} - \vec{b}) \times (\vec{a} + \vec{b}) = 2(\vec{a} \times \vec{b})$ , 并说明它的几何意义.

**证明:**  $(\vec{a} - \vec{b}) \times (\vec{a} + \vec{b}) = \vec{a} \times \vec{a} + \vec{a} \times \vec{b} - \vec{b} \times \vec{a} - \vec{b} \times \vec{b} = 2(\vec{a} \times \vec{b})$ . 几何意义: 若以  $\vec{a}, \vec{b}$  构成一个平行四边形的相邻两边, 则  $\vec{a} - \vec{b}, \vec{a} + \vec{b}$  为此平行四边形的两对角线. 上式说明: 以对角线构成的平行四边形面积为原平行四边形面积 2 倍.

4. 求向量  $\vec{c}$ , 使  $\vec{c} \perp \vec{a}, \vec{c} \perp \vec{b}$ , 其中,

(1)  $\vec{a} = \vec{i} - 2\vec{j} + 3\vec{k}, \vec{b} = 4\vec{j} - 5\vec{k}$ ;

(2)  $\vec{a} = 3\vec{i} - \vec{j} + \vec{k}, \vec{b} = -\vec{i} + 2\vec{j} - \vec{k}$ .

**解:** 令  $\vec{c} = \vec{a} \times \vec{b}$ . 则  $\vec{c} \perp \vec{a}, \vec{c} \perp \vec{b}$ . 计算得:

(1)  $\vec{c} = \vec{a} \times \vec{b} = -2\vec{i} + 5\vec{j} + 4\vec{k}$ .

(2)  $\vec{c} = \vec{a} \times \vec{b} = -\vec{i} + 2\vec{j} + 5\vec{k}$ . (本题答案不唯一)

5. 设  $\vec{u} = 2\vec{i} + 3\vec{j} - \vec{k}, \vec{v} = -8\vec{i} - 5\vec{j} + 3\vec{k}$ . 求  $\vec{v}_1, \vec{v}_2$ , 使  $\vec{v} = \vec{v}_1 + \vec{v}_2, \vec{v}_1 \perp \vec{u}, \vec{v}_2 \parallel \vec{u}$ .

**解:** 令  $\vec{u}^0 = \frac{\vec{u}}{|\vec{u}|} = \frac{1}{\sqrt{14}}(2, 3, -1)$ ,  $\text{pr}_{\vec{u}^0} \vec{v} = (\vec{v} \cdot \vec{u}^0)\vec{u}^0 = \frac{-17}{7}(2, 3, -1)$ . 令

$$\vec{v}_2 = \frac{-17}{7}(2\vec{i} + 3\vec{j} - \vec{k}), \quad \vec{v}_1 = \vec{v} - \vec{v}_2 = \frac{2}{7}(-11\vec{i} + 8\vec{j} + 2\vec{k}),$$

则:  $\vec{v}_2 \parallel \vec{u}$ , 且  $\vec{v}_1 \cdot \vec{u} = 0$ .

6. 设  $\vec{u}$  为给定的非零向量,  $\vec{v}$  为任一向量.

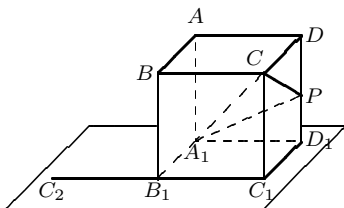
(1) 证明:  $\vec{v}$  可唯一分解为  $\vec{v} = \vec{v}_1 + \vec{v}_2$ , 其中,  $\vec{v}_1 \perp \vec{u}, \vec{v}_2 \parallel \vec{u}$ ;

(2) 具体写出  $\vec{v}_1, \vec{v}_2$  的表达式.

**证明:** (1) 若  $\vec{v}$  有两种分解法:  $\vec{v} = \vec{v}_1 + \vec{v}_2 = \vec{v}'_1 + \vec{v}'_2$ , 其中,  $\vec{v}_1 \perp \vec{u}, \vec{v}'_1 \perp \vec{u}, \vec{v}_2 \parallel \vec{u}, \vec{v}'_2 \parallel \vec{u}$ , 则  $\vec{v}_1 - \vec{v}'_1 = \vec{v}'_2 - \vec{v}_2$ . 但  $(\vec{v}_1 - \vec{v}'_1) \cdot \vec{u} = 0, (\vec{v}'_2 - \vec{v}_2) \times \vec{u} = 0$ , 所以  $\vec{v}_1 - \vec{v}'_1 \perp \vec{u}, \vec{v}_1 - \vec{v}'_1 \parallel \vec{u}, \vec{u} \neq 0$ , 推出:  $\vec{v}_1 - \vec{v}'_1 = 0, \vec{v}'_2 - \vec{v}_2 = 0$ , 即  $\vec{v}_1 = \vec{v}'_1, \vec{v}_2 = \vec{v}'_2$ .

(2) 令  $\vec{v}_2 = \text{pr}_{\vec{u}^0} \vec{v} = (\vec{v} \cdot \vec{u}^0)\vec{u}^0 = \frac{(\vec{v} \cdot \vec{u})}{|\vec{u}|^2} \vec{u}, \vec{v}_1 = \vec{v} - \vec{v}_2$ . 则  $\vec{v}_2 \parallel \vec{u}, \vec{v}_1 \cdot \vec{u} = \vec{v} \cdot \vec{u} - \frac{(\vec{v} \cdot \vec{u})}{|\vec{u}|^2} \vec{u}^2 = 0$ , 即  $\vec{v}_1 \perp \vec{u}$ . 且知:  $\vec{v} = \vec{v}_1 + \vec{v}_2$ , 由 (1) 知这种分解是唯一的, 故表达式为

$$\begin{cases} \vec{v}_2 = \frac{\vec{v} \cdot \vec{u}}{|\vec{u}|^2} \vec{u} \\ \vec{v}_1 = \vec{v} - \vec{v}_2. \end{cases}$$



第7题图

7. 如图, 已知  $ABCD-A_1B_1C_1D_1$  是单位正方体,  $P$  是棱  $DD_1$  上任意一个点. 线段  $C_1C_2$  的中点是  $B_1$ . 请指出下列各个向量积所确定的向量:

(1)  $\overrightarrow{A_1P} \times \overrightarrow{A_1A}$ ; (2)  $\overrightarrow{PC} \times \overrightarrow{A_1A}$ ; (3)  $\overrightarrow{A_1C} \times \overrightarrow{A_1A}$ .

**解:** 建立直角标架  $[A_1; \overrightarrow{A_1B_1}, \overrightarrow{A_1D_1}, \overrightarrow{A_1A}]$ . 设  $P$  为  $DD_1$  上任一点. 则:

$$\overrightarrow{A_1P} = \overrightarrow{A_1D_1} + \overrightarrow{D_1P} = \overrightarrow{A_1D_1} + k\overrightarrow{D_1D} = \overrightarrow{A_1D_1} + k\overrightarrow{A_1A} = (0, 1, k), \quad \overrightarrow{A_1C} = (1, 1, 1).$$

(1)  $\overrightarrow{A_1P} \times \overrightarrow{A_1A} = (0, 1, k) \times (0, 0, 1) = (1, 0, 0) = \overrightarrow{A_1B_1}$ .

(2)  $\overrightarrow{PC} = \overrightarrow{A_1C} - \overrightarrow{A_1P} = (1, 0, 1 - k)$ ,  $\overrightarrow{PC} \times \overrightarrow{A_1A} = (1, 0, 1 - k) \times (0, 0, 1) = (0, -1, 0) = -\overrightarrow{A_1D_1} = \overrightarrow{D_1A_1}$ .

(3)  $\overrightarrow{A_1C} \times \overrightarrow{A_1A} = (1, 1, 1) \times (0, 0, 1) = (1, -1, 0) = \overrightarrow{A_1B_1} - \overrightarrow{A_1D_1} = \overrightarrow{A_1C_2}$ .

8. 计算由向量  $\vec{a}$ ,  $\vec{b}$  所张成的平行四边形的面积:

(1)  $\vec{a} = 3\vec{i} + 4\vec{j} + 2\vec{k}$ ,  $\vec{b} = 2\vec{i} + \vec{j} + \vec{k}$ ;

(2)  $\vec{a} = -\vec{i} + 2\vec{j} + \vec{k}$ ,  $\vec{b} = 2\vec{i} - 2\vec{j}$ .

解: (1)  $\vec{a} \times \vec{b} = 2\vec{i} + \vec{j} - 5\vec{k}$ ,  $|\vec{a} \times \vec{b}| = \sqrt{30}$ . 所以  $\vec{a}$ ,  $\vec{b}$  张成的平行四边形面积为  $\sqrt{30}$ .

(2)  $\vec{a} \times \vec{b} = 2\vec{i} + 2\vec{j} - 2\vec{k}$ ,  $|\vec{a} \times \vec{b}| = 2\sqrt{3}$ , 所以  $\vec{a}$ ,  $\vec{b}$  张成的平行四边形面积为  $2\sqrt{3}$ .

9. 设  $\vec{a}$ ,  $\vec{b}$ ,  $\vec{c}$  为两两不共线的向量. 证明:  $\vec{a} + \vec{b} + \vec{c} = 0$  当且仅当  $\vec{a} \times \vec{b} = \vec{b} \times \vec{c} = \vec{c} \times \vec{a}$ .

证明: 若  $\vec{a} + \vec{b} + \vec{c} = 0$ , 则此式与  $\vec{b}$  和  $\vec{c}$  作外积后可得  $\vec{a} \times \vec{b} + \vec{c} \times \vec{b} = 0$  以及  $\vec{a} \times \vec{c} + \vec{b} \times \vec{c} = 0$ , 即  $\vec{a} \times \vec{b} = \vec{b} \times \vec{c} = \vec{c} \times \vec{a}$ .

反之, 设  $\vec{p} = \vec{a} + \vec{b} + \vec{c}$ . 由上述等式可得  $\vec{p} \times \vec{b} = \vec{a} \times \vec{b} + \vec{c} \times \vec{b} = 0$  以及  $\vec{p} \times \vec{c} = \vec{a} \times \vec{c} + \vec{b} \times \vec{c} = 0$ . 如果  $\vec{p} \neq 0$ , 则由  $\vec{p}$ ,  $\vec{b}$  共线以及  $\vec{p}$ ,  $\vec{c}$  共线可得  $\vec{b}$  与  $\vec{c}$  共线, 与假设矛盾.

10. 设  $\vec{a}$ ,  $\vec{b}$  为两不共线的向量,  $\overrightarrow{AB} = \vec{a} + \vec{b}$ ,  $\overrightarrow{BC} = 2\vec{a} + 8\vec{b}$ ,  $\overrightarrow{CD} = 3(\vec{a} - \vec{b})$ . 证明:  $A, B, D$  三点共线.

证明: 要证  $A, B, D$  三点共线, 只须证明:  $\overrightarrow{AB} \times \overrightarrow{BD} = 0$  即可. 由

$$\overrightarrow{BD} = \overrightarrow{BC} + \overrightarrow{CD} = 5\vec{a} + 5\vec{b} = 5(\vec{a} + \vec{b}) = 5\overrightarrow{AB},$$

可得  $\overrightarrow{AB} \times \overrightarrow{BD} = 0$ , 即:  $A, B, D$  三点共线.

11. 三个向量  $\overrightarrow{OA}$ ,  $\overrightarrow{OB}$ ,  $\overrightarrow{OC}$  满足

$$\overrightarrow{OB} \times \overrightarrow{OC} + \overrightarrow{OC} \times \overrightarrow{OA} + \overrightarrow{OA} \times \overrightarrow{OB} = 0.$$

求证: (1)  $\overrightarrow{OA}$ ,  $\overrightarrow{OB}$ ,  $\overrightarrow{OC}$  共面;

(2) 三点  $A, B, C$  共线.

证明: (1) 要证:  $\overrightarrow{OA}$ ,  $\overrightarrow{OB}$ ,  $\overrightarrow{OC}$  共面只须证明: 存在非零向量  $\vec{p}$ , 使:  $\vec{p} \cdot \overrightarrow{OA} = \vec{p} \cdot \overrightarrow{OB} = \vec{p} \cdot \overrightarrow{OC} = 0$  即可. 令  $\vec{p} = \overrightarrow{OB} \times \overrightarrow{OC}$ , 则  $\vec{p} \cdot \overrightarrow{OB} = \vec{p} \cdot \overrightarrow{OC} = 0$ , 又因

$$\overrightarrow{OB} \times \overrightarrow{OC} + \overrightarrow{OC} \times \overrightarrow{OA} + \overrightarrow{OA} \times \overrightarrow{OB} = 0,$$

可得

$$\vec{p} \times \overrightarrow{OA} = -(\overrightarrow{OC} \times \overrightarrow{OA}) \cdot \overrightarrow{OA} - (\overrightarrow{OA} \times \overrightarrow{OB}) \cdot \overrightarrow{OA} = 0.$$

若  $\vec{p} \neq 0$ , 则  $\overrightarrow{OA}$ ,  $\overrightarrow{OB}$ ,  $\overrightarrow{OC}$  共面; 如果  $\vec{p} = 0$ , 则  $\overrightarrow{OB}$  与  $\overrightarrow{OC}$  共线, 也有  $\overrightarrow{OA}$ ,  $\overrightarrow{OB}$ ,  $\overrightarrow{OC}$  共面.

(2) 要证  $A, B, C$  共线只须证明:  $\overrightarrow{AB} \times \overrightarrow{AC} = 0$ . 因

$$\overrightarrow{AB} = \overrightarrow{OB} - \overrightarrow{OA}, \quad \overrightarrow{AC} = \overrightarrow{OC} - \overrightarrow{OA},$$

所以

$$\overrightarrow{AB} \times \overrightarrow{AC} = (\overrightarrow{OB} - \overrightarrow{OA}) \times (\overrightarrow{OC} - \overrightarrow{OA}) = \overrightarrow{OB} \times \overrightarrow{OC} + \overrightarrow{OA} \times \overrightarrow{OB} + \overrightarrow{OC} \times \overrightarrow{OA} = 0,$$

故  $A, B, C$  三点共线.

12. 如果  $\vec{a} = \vec{p} \times \vec{n}$ ,  $\vec{b} = \vec{q} \times \vec{n}$ ,  $\vec{c} = \vec{r} \times \vec{n}$ , 则  $\vec{a}$ ,  $\vec{b}$ ,  $\vec{c}$  共面. 试证明之.

证明: 由于  $\vec{n} \cdot \vec{a} = \vec{n} \cdot \vec{b} = \vec{n} \cdot \vec{c} = 0$ , 若  $\vec{n} \neq 0$ , 则  $\vec{a}$ ,  $\vec{b}$ ,  $\vec{c}$  共面; 否则, 由  $\vec{n} = 0$  可得  $\vec{a} = \vec{b} = \vec{c} = 0$ , 也共面.

1. 判断下列向量组是否共面:

$$(1) \vec{a} = 3\vec{i} - 2\vec{j} - \vec{k}, \vec{b} = 5\vec{i} + 4\vec{j} - 3\vec{k}, \vec{c} = 11\vec{i} - \vec{k};$$

$$(2) \vec{a} = -2\vec{i} + 3\vec{j} - \vec{k}, \vec{b} = \vec{i} - 4\vec{j} - 2\vec{k}, \vec{c} = \vec{i} - 5\vec{j} + 2\vec{k};$$

$$(3) \vec{a} = \vec{i} + 2\vec{j} + 3\vec{k}, \vec{b} = 4\vec{i} - 5\vec{j} + \vec{k}, \vec{c} = 7\vec{i} - 5\vec{j} + 8\vec{k};$$

$$(4) \vec{a} = -\vec{j} + 3\vec{k}, \vec{b} = 2\vec{i} - 2\vec{j}, \vec{c} = -\vec{i} + 2\vec{j} - 3\vec{k}.$$

解: (1)  $(\vec{a}, \vec{b}, \vec{c}) = \begin{vmatrix} 3 & -2 & -1 \\ 5 & 4 & -3 \\ 11 & 0 & -1 \end{vmatrix} = 88 \neq 0$ , 所以  $\vec{a}, \vec{b}, \vec{c}$  不共面.

(2)  $(\vec{a}, \vec{b}, \vec{c}) = \begin{vmatrix} -2 & 3 & -1 \\ 1 & -4 & -2 \\ 1 & -5 & 2 \end{vmatrix} = 25 \neq 0$ , 所以  $\vec{a}, \vec{b}, \vec{c}$  不共面.

(3)  $(\vec{a}, \vec{b}, \vec{c}) = \begin{vmatrix} 1 & 2 & 3 \\ 4 & -51 & \\ 7 & -5 & 8 \end{vmatrix} = -40 \neq 0$ , 所以  $\vec{a}, \vec{b}, \vec{c}$  不共面.

(4)  $(\vec{a}, \vec{b}, \vec{c}) = \begin{vmatrix} 0 & -1 & 3 \\ 2 & -2 & 0 \\ -1 & 2 & -3 \end{vmatrix} = 0$ , 所以  $\vec{a}, \vec{b}, \vec{c}$  共面.

2. 计算由向量  $\vec{a}, \vec{b}, \vec{c}$  所张成的平行六面体的体积:

$$(1) \vec{a} = -\vec{i} + \vec{j} + 2\vec{k}, \vec{b} = \vec{i} - \vec{j} + 3\vec{k}, \vec{c} = 2\vec{i} + \vec{j} + \vec{k};$$

$$(2) \vec{a} = 3\vec{i} + \vec{k}, \vec{b} = 2\vec{i} - \vec{j} + \vec{k}, \vec{c} = \vec{i} + 5\vec{j} - \vec{k};$$

$$(3) \vec{a} = \vec{i} - \vec{j} - \vec{k}, \vec{b} = -3\vec{i} - 2\vec{j} + \vec{k}, \vec{c} = \vec{i} + \vec{j};$$

$$(4) \vec{a} = \vec{i}, \vec{b} = \vec{i} + \vec{j}; \vec{c} = \vec{i} + \vec{j} + \vec{k}.$$

解: (1)  $V = |(\vec{a}, \vec{b}, \vec{c})| = \left| \begin{vmatrix} -1 & 1 & 2 \\ 1 & -1 & 3 \\ 2 & 1 & 1 \end{vmatrix} \right| = 15.$

(2)  $V = |(\vec{a}, \vec{b}, \vec{c})| = \left| \begin{vmatrix} 3 & 0 & 1 \\ 2 & -1 & 1 \\ 1 & 5 & -1 \end{vmatrix} \right| = |-1| = 1.$

(3)  $V = |(\vec{a}, \vec{b}, \vec{c})| = \left| \begin{vmatrix} 1 & -1 & -1 \\ -3 & -2 & 1 \\ 1 & 1 & 0 \end{vmatrix} \right| = |-1| = 1.$

(4)  $V = |(\vec{a}, \vec{b}, \vec{c})| = \left| \begin{vmatrix} 1 & 0 & 0 \\ 1 & 1 & 0 \\ 1 & 1 & 1 \end{vmatrix} \right| = 1.$

3. 确定下列四点是否共面:

$$(1) A(1, 2, -1), B(0, 1, 5), C(-1, 2, 1), D(2, 1, 3);$$

$$(2) A(3, -2, 1), B(2, 0, -1), C(-1, -4, 5), D(3, -2, 4);$$

$$(3) A(1, 2, -3), B(3, 5, -1), C(0, -2, 7), D(2, 1, 3);$$

$$(4) A(1, 0, 1), B(0, -1, 2), C(1, 2, -2), D(2, 0, -21).$$

解: 要确定  $A, B, C, D$  四点是否共面, 只须确定  $\vec{AB}, \vec{AC}, \vec{AD}$  这三个向量是否共面. 所以只须看  $(\vec{AB}, \vec{AC}, \vec{AD})$  是否为零.



$$(1) \overrightarrow{AB} = (-1, -1, 6), \overrightarrow{AC} = (-2, 0, 2), \overrightarrow{AD} = (1, -1, 4),$$

$$(\overrightarrow{AB}, \overrightarrow{AC}, \overrightarrow{AD}) = \begin{vmatrix} -1 & -1 & 6 \\ -2 & 0 & 2 \\ 1 & -1 & 4 \end{vmatrix} = 0, \quad \text{共面.}$$

$$(2) \overrightarrow{AB} = (-1, 2, -2), \overrightarrow{AC} = (-4, -2, 4), \overrightarrow{AD} = (0, 0, 3),$$

$$(\overrightarrow{AB}, \overrightarrow{AC}, \overrightarrow{AD}) = \begin{vmatrix} -1 & 2 & -2 \\ -4 & -2 & 4 \\ 0 & 0 & 3 \end{vmatrix} = 30 \neq 0, \quad \text{不共面.}$$

$$(3) \overrightarrow{AB} = (2, 3, 2), \overrightarrow{AC} = (-1, -4, 10), \overrightarrow{AD} = (1, -1, 6),$$

$$(\overrightarrow{AB}, \overrightarrow{AC}, \overrightarrow{AD}) = \begin{vmatrix} 2 & 3 & 2 \\ -1 & -4 & 10 \\ 1 & -1 & 6 \end{vmatrix} = 30 \neq 0, \quad \text{不共面.}$$

$$(4) \overrightarrow{AB} = (-1, -1, 1), \overrightarrow{AC} = (0, 2, -3), \overrightarrow{AD} = (1, 0, -22),$$

$$(\overrightarrow{AB}, \overrightarrow{AC}, \overrightarrow{AD}) = \begin{vmatrix} -1 & -1 & 1 \\ 0 & 2 & -3 \\ 1 & 0 & -22 \end{vmatrix} = 45 \neq 0, \quad \text{不共面.}$$

4. 确定以  $A, B, C, D$  为顶点的四面体的体积:

$$(1) A(-1, 0, 1), B(-2, 1, 4), C(1, 3, -3), D(-2, -1, 3);$$

$$(2) A(2, -1, 1), B(5, 4, 4), C(2, 3, -1), D(4, 1, 2);$$

$$(3) A(1, 0, 2), B(1, -1, 0), C(2, 2, -1), D(3, 1, 0);$$

$$(4) A(2, 2, -1), B(1, 2, -2), C(2, -2, 1), D(1, 1, 1).$$

解: (1)  $\overrightarrow{AB} = (-1, 1, 3), \overrightarrow{AC} = (2, 3, -4), \overrightarrow{AD} = (-1, -1, 2),$

$$V = \frac{1}{6} |(\overrightarrow{AB}, \overrightarrow{AC}, \overrightarrow{AD})| = \frac{1}{6} \times \left| \begin{vmatrix} -1 & 1 & 3 \\ 2 & 3 & -4 \\ -1 & -1 & 2 \end{vmatrix} \right| = \frac{1}{6}.$$

$$(2) \overrightarrow{AB} = (3, 5, 3), \overrightarrow{AC} = (0, 4, -2), \overrightarrow{AD} = (2, 2, 1),$$

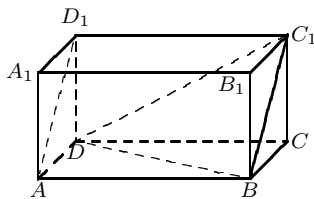
$$V = \frac{1}{6} |(\overrightarrow{AB}, \overrightarrow{AC}, \overrightarrow{AD})| = \frac{1}{6} \times \left| \begin{vmatrix} 3 & 5 & 3 \\ 0 & 4 & -2 \\ 2 & 2 & 1 \end{vmatrix} \right| = \frac{|-20|}{6} = \frac{10}{3}.$$

$$(3) \overrightarrow{AB} = (0, -1, -2), \overrightarrow{AC} = (1, 2, -3), \overrightarrow{AD} = (2, 1, -2),$$

$$V = \frac{1}{6} |(\overrightarrow{AB}, \overrightarrow{AC}, \overrightarrow{AD})| = \frac{1}{6} \times \left| \begin{vmatrix} 0 & -1 & -2 \\ 1 & 2 & -3 \\ 2 & 1 & -2 \end{vmatrix} \right| = \frac{10}{6} = \frac{5}{3}.$$

$$(4) \overrightarrow{AB} = (-1, 0, -1), \overrightarrow{AC} = (0, -4, 2), \overrightarrow{AD} = (-1, -1, 2),$$

$$V = \frac{1}{6} |(\overrightarrow{AB}, \overrightarrow{AC}, \overrightarrow{AD})| = \frac{1}{6} \times \left| \begin{vmatrix} -1 & 0 & -1 \\ 0 & -4 & 2 \\ -1 & -1 & 2 \end{vmatrix} \right| = \frac{5}{3}.$$



第5题图

5. 如图, 已知长方体  $ABCD-A_1B_1C_1D_1$ ,  $|AB|=4$ ,  $|AD|=|AA_1|=2$ . 求

- (1) 点  $A_1$  到平面  $C_1BD$  的距离;  
 (2) 直线  $AD_1$  与平面  $C_1BD$  的距离.

解: 设  $\overrightarrow{DA}$ ,  $\overrightarrow{DC}$ ,  $\overrightarrow{DD_1}$  的单位向量是  $\vec{i}$ ,  $\vec{j}$ ,  $\vec{k}$ , 建立直角坐标系  $[D; \vec{i}, \vec{j}, \vec{k}]$ . 则

$$\overrightarrow{DA_1} = (2, 0, 2), \quad \overrightarrow{DB} = (2, 4, 0), \quad \overrightarrow{DC_1} = (0, 4, 2).$$

- (1) 点  $A_1$  到平面  $C_1BD$  的距离

$$d = \frac{|(\overrightarrow{DA_1}, \overrightarrow{DB}, \overrightarrow{DC_1})|}{|\overrightarrow{DB} \times \overrightarrow{DC_1}|} = \frac{\begin{vmatrix} 2 & 0 & 2 \\ 2 & 4 & 0 \\ 0 & 4 & 2 \end{vmatrix}}{|(8, -4, 8)|} = \frac{32}{12} = \frac{8}{3}.$$

(2) 因为  $AD_1 \parallel BC_1$ , 所以  $AD_1 \parallel$  平面  $C_1BD$ . 故  $AD_1$  上任一点到平面  $C_1BD$  的距离即为  $AD_1$  到平面  $C_1BD$  的距离.

$$d = \frac{|(\overrightarrow{DA}, \overrightarrow{DB}, \overrightarrow{DC_1})|}{|\overrightarrow{DB} \times \overrightarrow{DC_1}|} = \frac{\begin{vmatrix} 2 & 0 & 0 \\ 2 & 4 & 0 \\ 0 & 4 & 2 \end{vmatrix}}{12} = \frac{16}{12} = \frac{4}{3}.$$

6. 设  $\vec{a} = a_1\vec{e}_1 + b_1\vec{e}_2 + c_1\vec{e}_3$ ,  $\vec{b} = a_2\vec{e}_1 + b_2\vec{e}_2 + c_2\vec{e}_3$ ,  $\vec{c} = a_3\vec{e}_1 + b_3\vec{e}_2 + c_3\vec{e}_3$ . 求证

$$(\vec{a}, \vec{b}, \vec{c}) = \begin{vmatrix} a_1 & b_1 & c_1 \\ a_2 & b_2 & c_2 \\ a_3 & b_3 & c_3 \end{vmatrix} (\vec{e}_1, \vec{e}_2, \vec{e}_3).$$

证明:  $\vec{a} \times \vec{b} = (a_1\vec{e}_1 + b_1\vec{e}_2 + c_1\vec{e}_3) \times (a_2\vec{e}_1 + b_2\vec{e}_2 + c_2\vec{e}_3) = a_1b_2\vec{e}_1 \times \vec{e}_2 + a_1c_2\vec{e}_1 \times \vec{e}_3 + b_1a_2\vec{e}_2 \times \vec{e}_1 + b_1c_2\vec{e}_2 \times \vec{e}_3 + c_1a_2\vec{e}_3 \times \vec{e}_1 + c_1b_2\vec{e}_3 \times \vec{e}_2 = (a_1b_2 - b_1a_2)\vec{e}_1 \times \vec{e}_2 + (a_1c_2 - c_1a_2)\vec{e}_1 \times \vec{e}_3 + (b_1c_2 - c_1b_2)\vec{e}_2 \times \vec{e}_3$ ,  
 $(\vec{a}, \vec{b}, \vec{c}) = (\vec{a} \times \vec{b}) \cdot \vec{c} = [(a_1b_2 - b_1a_2)\vec{e}_1 \times \vec{e}_2 + (a_1c_2 - c_1a_2)\vec{e}_1 \times \vec{e}_3 + (b_1c_2 - c_1b_2)\vec{e}_2 \times \vec{e}_3] \cdot (a_3\vec{e}_1 + b_3\vec{e}_2 + c_3\vec{e}_3) = [(a_1b_2 - b_1a_2)c_3](\vec{e}_1, \vec{e}_2, \vec{e}_3) - [(a_1c_2 - c_1a_2)b_3](\vec{e}_1, \vec{e}_2, \vec{e}_3) + [(b_1c_2 - c_1b_2)a_3](\vec{e}_1, \vec{e}_2, \vec{e}_3) = \begin{vmatrix} a_1 & b_1 & c_1 \\ a_2 & b_2 & c_2 \\ a_3 & b_3 & c_3 \end{vmatrix} (\vec{e}_1, \vec{e}_2, \vec{e}_3)$ . (只要利用三阶行列式的定义便可计算得).

7. 求证:  $|(\vec{a}, \vec{b}, \vec{c})| \leq |\vec{a}| |\vec{b}| |\vec{c}|$ .

证明:  $|(\vec{a}, \vec{b}, \vec{c})| = |(\vec{a} \times \vec{b}) \cdot \vec{c}| = \left| |\vec{a} \times \vec{b}| |\vec{c}| \cos\langle \vec{a} \times \vec{b}, \vec{c} \rangle \right| \leq |\vec{a} \times \vec{b}| |\vec{c}| = |\vec{a}| |\vec{b}| |\vec{c}| \sin\langle \vec{a}, \vec{b} \rangle \leq |\vec{a}| |\vec{b}| |\vec{c}|$ .

8. 证明雅可比恒等式:

$$\vec{a} \times (\vec{b} \times \vec{c}) + \vec{b} \times (\vec{c} \times \vec{a}) + \vec{c} \times (\vec{a} \times \vec{b}) = 0.$$

证明: 由命题 7.7 知:

$$\vec{a} \times (\vec{b} \times \vec{c}) = (\vec{a} \cdot \vec{c}) \vec{b} - (\vec{a} \cdot \vec{b}) \vec{c},$$

$$\begin{aligned}\vec{b} \times (\vec{c} \times \vec{a}) &= (\vec{a} \cdot \vec{b})\vec{c} - (\vec{b} \cdot \vec{c})\vec{a}, \\ \vec{c} \times (\vec{a} \times \vec{b}) &= (\vec{b} \cdot \vec{c})\vec{a} - (\vec{a} \cdot \vec{c})\vec{b},\end{aligned}$$

相加即得结论.

9. 证明: 空间中四点  $A, B, C, P$  共面的充分必要条件是, 它们所对应的位置向量  $\vec{a}, \vec{b}, \vec{c}, \vec{p}$  满足

$$(\vec{p}, \vec{b}, \vec{c}) + (\vec{a}, \vec{p}, \vec{c}) + (\vec{a}, \vec{b}, \vec{p}) - (\vec{a}, \vec{b}, \vec{c}) = 0.$$

证明:  $A, B, C, P$  共面当且仅当  $\vec{PA}, \vec{PB}, \vec{PC}$  共面. 已知

$$\vec{a} = \vec{OA}, \quad \vec{b} = \vec{OB}, \quad \vec{c} = \vec{OC}, \quad \vec{p} = \vec{OP},$$

故

$$\vec{PA} = \vec{a} - \vec{p}, \quad \vec{PB} = \vec{b} - \vec{p}, \quad \vec{PC} = \vec{c} - \vec{p}.$$

因此  $\vec{PA}, \vec{PB}, \vec{PC}$  共面当且仅当  $(\vec{PA}, \vec{PB}, \vec{PC}) = 0$ , 当且仅当

$$(\vec{a} - \vec{p}, \vec{b} - \vec{p}, \vec{c} - \vec{p}) = 0,$$

当且仅当

$$(\vec{a}, \vec{b} - \vec{p}, \vec{c} - \vec{p}) - (\vec{p}, \vec{b} - \vec{p}, \vec{c} - \vec{p}) = 0,$$

当且仅当

$$(\vec{a}, \vec{b}, \vec{c}) - (\vec{a}, \vec{b}, \vec{p}) - (\vec{a}, \vec{p}, \vec{c}) - (\vec{p}, \vec{b}, \vec{c}) = 0,$$

当且仅当

$$(\vec{p}, \vec{b}, \vec{c}) + (\vec{a}, \vec{p}, \vec{c}) + (\vec{a}, \vec{b}, \vec{p}) - (\vec{a}, \vec{b}, \vec{c}) = 0.$$

10. 证明

$$(1) (\vec{a} \times \vec{b}) \times (\vec{c} \times \vec{d}) = (\vec{a}, \vec{b}, \vec{d})\vec{c} - (\vec{a}, \vec{b}, \vec{c})\vec{d};$$

$$(2) (\vec{a} \times \vec{b}) \times (\vec{c} \times \vec{d}) = (\vec{a}, \vec{c}, \vec{d})\vec{b} - (\vec{b}, \vec{c}, \vec{d})\vec{a}.$$

证明: (1)  $(\vec{a} \times \vec{b}) \times (\vec{c} \times \vec{d}) = -(\vec{c} \times \vec{d}) \times (\vec{a} \times \vec{b}) = -[\vec{c} \cdot (\vec{a} \times \vec{b})\vec{d} - \vec{d} \cdot (\vec{a} \times \vec{b})\vec{c}] = (\vec{a}, \vec{b}, \vec{d})\vec{c} - (\vec{a}, \vec{b}, \vec{c})\vec{d}.$

$$(2) (\vec{a} \times \vec{b}) \times (\vec{c} \times \vec{d}) = [\vec{a} \cdot (\vec{c} \times \vec{d})]\vec{b} - [\vec{b} \cdot (\vec{c} \times \vec{d})]\vec{a} = (\vec{a}, \vec{c}, \vec{d})\vec{b} - (\vec{b}, \vec{c}, \vec{d})\vec{a}.$$

11. 证明对任意四个向量  $\vec{a}, \vec{b}, \vec{c}, \vec{d}$  总有

$$(\vec{b}, \vec{c}, \vec{d})\vec{a} + (\vec{c}, \vec{a}, \vec{d})\vec{b} + (\vec{a}, \vec{b}, \vec{d})\vec{c} + (\vec{b}, \vec{a}, \vec{c})\vec{d} = 0.$$

证明: 由第 10 题结论可得

$$(\vec{a}, \vec{b}, \vec{d})\vec{c} - (\vec{a}, \vec{b}, \vec{c})\vec{d} = (\vec{a}, \vec{c}, \vec{d})\vec{b} - (\vec{b}, \vec{c}, \vec{d})\vec{a},$$

移项后再适当改变混合积中向量次序即可证得.

12. 证明下列向量恒等式:

$$(1) (\vec{a} \times \vec{b}, \vec{b} \times \vec{c}, \vec{c} \times \vec{a}) = (\vec{a}, \vec{b}, \vec{c})^2;$$

$$(2) (\vec{b} \times \vec{c}) \times (\vec{a} \times \vec{d}) + (\vec{c} \times \vec{a}) \times (\vec{b} \times \vec{d}) + (\vec{a} \times \vec{b}) \times (\vec{c} \times \vec{d}) = -2(\vec{a}, \vec{b}, \vec{c})\vec{d};$$

$$(3) (\vec{a} - \vec{d}) \cdot (\vec{b} - \vec{c}) + (\vec{b} - \vec{d}) \cdot (\vec{c} - \vec{a}) + (\vec{c} - \vec{d}) \cdot (\vec{a} - \vec{b}) = 0;$$

$$(4) (\vec{a} - \vec{d}) \times (\vec{b} - \vec{c}) + (\vec{b} - \vec{d}) \times (\vec{c} - \vec{a}) + (\vec{c} - \vec{d}) \times (\vec{a} - \vec{b}) = 2(\vec{a} \times \vec{b} + \vec{b} \times \vec{c} + \vec{c} \times \vec{a}).$$

证明: (1)  $(\vec{a} \times \vec{b}, \vec{b} \times \vec{c}, \vec{c} \times \vec{a}) = [(\vec{a} \times \vec{b}) \times (\vec{b} \times \vec{c})] \cdot (\vec{c} \times \vec{a}) = [(\vec{a}, \vec{b}, \vec{c})\vec{b} - (\vec{b}, \vec{c}, \vec{b})\vec{a}] \cdot (\vec{c} \times \vec{a}) = (\vec{a}, \vec{b}, \vec{c}) \cdot (\vec{c}, \vec{a}, \vec{b}) = (\vec{a}, \vec{b}, \vec{c})^2.$

(2)  $(\vec{b} \times \vec{c}) \times (\vec{a} \times \vec{d}) = -(\vec{a} \times \vec{d}) \times (\vec{b} \times \vec{c}) = -(\vec{b}, \vec{c}, \vec{a})\vec{d} + (\vec{b}, \vec{c}, \vec{d})\vec{a}$ ,  $(\vec{c} \times \vec{a}) \times (\vec{b} \times \vec{d}) = -(\vec{b} \times \vec{d}) \times (\vec{c} \times \vec{a}) = -(\vec{c}, \vec{a}, \vec{b})\vec{d} + (\vec{c}, \vec{a}, \vec{d})\vec{b}$ ,  $(\vec{a} \times \vec{b}) \times (\vec{c} \times \vec{d}) = (\vec{c}, \vec{d}, \vec{a})\vec{b} - (\vec{c}, \vec{d}, \vec{b})\vec{a}$ , 所以

$$(\vec{b} \times \vec{c}) \times (\vec{a} \times \vec{d}) + (\vec{c} \times \vec{a}) \times (\vec{b} \times \vec{d}) + (\vec{a} \times \vec{b}) \times (\vec{c} \times \vec{d}) = -2(\vec{a}, \vec{b}, \vec{c})\vec{d}.$$

$$(3) (\vec{a} - \vec{d}) \cdot (\vec{b} - \vec{c}) = \vec{a} \cdot \vec{b} - \vec{a} \cdot \vec{c} - \vec{b} \cdot \vec{d} + \vec{c} \cdot \vec{d},$$

$$(\vec{b} - \vec{d}) \cdot (\vec{c} - \vec{a}) = \vec{b} \cdot \vec{c} - \vec{a} \cdot \vec{b} - \vec{c} \cdot \vec{d} + \vec{a} \cdot \vec{d},$$

$$(\vec{c} - \vec{d}) \cdot (\vec{a} - \vec{b}) = \vec{a} \cdot \vec{c} - \vec{b} \cdot \vec{c} - \vec{a} \cdot \vec{d} + \vec{b} \cdot \vec{d},$$

将上述等式左、右两端分别相加则:

$$(\vec{a} - \vec{d}) \cdot (\vec{b} - \vec{c}) + (\vec{b} - \vec{d}) \cdot (\vec{c} - \vec{a}) + (\vec{c} - \vec{d}) \cdot (\vec{a} - \vec{b}) = 0.$$

$$(4) (\vec{a} - \vec{d}) \times (\vec{b} - \vec{c}) = \vec{a} \times \vec{b} - \vec{a} \times \vec{c} + \vec{b} \times \vec{d} - \vec{c} \times \vec{d},$$

$$(\vec{b} - \vec{d}) \times (\vec{c} - \vec{a}) = \vec{b} \times \vec{c} + \vec{a} \times \vec{b} + \vec{c} \times \vec{d} - \vec{a} \times \vec{d},$$

$$(\vec{c} - \vec{d}) \times (\vec{a} - \vec{b}) = -\vec{a} \times \vec{c} + \vec{b} \times \vec{c} + \vec{a} \times \vec{d} - \vec{b} \times \vec{d},$$

将上述等式左、右两端分别相加得:

$$(\vec{a} - \vec{d}) \times (\vec{b} - \vec{c}) + (\vec{b} - \vec{d}) \times (\vec{c} - \vec{a}) + (\vec{c} - \vec{d}) \times (\vec{a} - \vec{b}) = 2(\vec{a} \times \vec{b} + \vec{b} \times \vec{c} + \vec{c} \times \vec{a}).$$

13. 证明对于任意向量  $r_i$  ( $i = 1, 2, 3, 4$ ), 下式成立:

$$(\vec{r}_1 \times \vec{r}_2)(\vec{r}_3 \times \vec{r}_4) + (\vec{r}_1 \times \vec{r}_3)(\vec{r}_4 \times \vec{r}_2) + (\vec{r}_1 \times \vec{r}_4)(\vec{r}_2 \times \vec{r}_3) = 0.$$

证明: 根据定理 8.7,  $(\vec{r}_1 \times \vec{r}_2) \cdot (\vec{r}_3 \times \vec{r}_4) = (\vec{r}_1 \cdot \vec{r}_3)(\vec{r}_2 \cdot \vec{r}_4) - (\vec{r}_1 \cdot \vec{r}_4)(\vec{r}_2 \cdot \vec{r}_3)$ ,

$$(\vec{r}_1 \times \vec{r}_3) \cdot (\vec{r}_4 \times \vec{r}_2) = (\vec{r}_1 \cdot \vec{r}_4)(\vec{r}_2 \cdot \vec{r}_3) - (\vec{r}_1 \cdot \vec{r}_2)(\vec{r}_3 \cdot \vec{r}_4),$$

$$(\vec{r}_1 \times \vec{r}_4) \cdot (\vec{r}_2 \times \vec{r}_3) = (\vec{r}_1 \cdot \vec{r}_2)(\vec{r}_3 \cdot \vec{r}_4) - (\vec{r}_1 \cdot \vec{r}_3)(\vec{r}_2 \cdot \vec{r}_4),$$

将上述等式的左、右两端分别相加后得到结论.

14. 证明  $\vec{a}, \vec{b}, \vec{c}$  共面的充分必要条件是  $\vec{b} \times \vec{c}, \vec{c} \times \vec{a}, \vec{a} \times \vec{b}$  共面.

证明: 因为  $\vec{b} \times \vec{c}, \vec{c} \times \vec{a}, \vec{a} \times \vec{b}$  共面当且仅当  $(\vec{a} \times \vec{b}, \vec{b} \times \vec{c}, \vec{c} \times \vec{a}) = 0$ , 但由 12 题的 (1) 知:  $(\vec{a} \times \vec{b}, \vec{b} \times \vec{c}, \vec{c} \times \vec{a}) = (\vec{a}, \vec{b}, \vec{c})^2$ , 所以  $\vec{a}, \vec{b}, \vec{c}$  共面当且仅当  $\vec{a} \times \vec{b}, \vec{b} \times \vec{c}, \vec{c} \times \vec{a}$  共面.

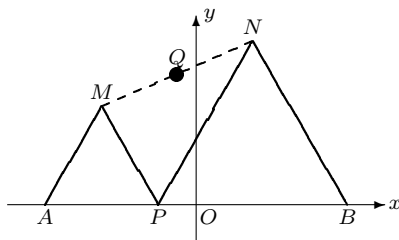
### 习题 1-9

1. 三角形  $ABC$  底边的两个端点为  $B(-3, 0), C(3, 0)$ . 顶点  $A$  在直线  $7x - 5y - 35 = 0$  上移动, 求三角形重心的轨迹.

解: 设重心的坐标为  $(x, y)$ , 则

$$\begin{cases} x = \frac{x_A + x_B + x_C}{3} = \frac{x_A}{3} \\ y = \frac{y_A + y_B + y_C}{3} = \frac{y_A}{3}, \end{cases} \quad \text{即} \begin{cases} x_A = 3x \\ y_A = 3y. \end{cases}$$

而  $(x_A, y_A)$  满足方程  $7x - 5y - 35 = 0$ , 代入即得  $21x - 15y - 35 = 0$ .



第2题图

2. 在长为  $l$  的线段  $AB$  上有一动点  $P$ . 在  $AB$  的同侧, 以  $AP, PB$  为边分别作等边三角形  $AMP$  和  $BNP$ . 求  $MN$  的中点  $Q$  的轨迹.

解: 以  $AB$  的中点  $O$  为原点, 以  $AB$  为  $x$  轴, 建立直角坐标系  $[O; \vec{i}, \vec{j}]$ . 于是

$$A\left(-\frac{l}{2}, 0\right), \quad B\left(\frac{l}{2}, 0\right), \quad P(t, 0), \quad \left(-\frac{l}{2} < t < \frac{l}{2}\right).$$

则

$$M\left(\frac{t - \frac{l}{2}}{2}, \frac{\sqrt{3}}{2}\left(t + \frac{l}{2}\right)\right), \quad N\left(\frac{t + \frac{l}{2}}{2}, \frac{\sqrt{3}}{2}\left(\frac{l}{2} - t\right)\right).$$

所以  $MN$  的中点  $Q$  的坐标为:

$$\begin{cases} x_Q = \frac{t}{2} & \left(-\frac{l}{2} < t < \frac{l}{2}\right) \\ y_Q = \frac{\sqrt{3}}{4}l. \end{cases}$$

即  $Q$  点的轨迹方程为:  $y = \frac{\sqrt{3}}{4}l \left(-\frac{l}{4} < x < \frac{l}{4}\right)$ .